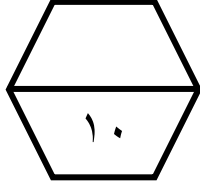


اسم الطالب /

ورقة عمل (الأسبوع العاشر) للصف الرابع الابتدائي الفصل الدراسي الثاني للعام الدراسي ١٤٤٧ هـ



المهارات
الزمن المنقضي
الكسور الاعتيادية

١	ضع علامة (\checkmark) أمام العبارة الصحيحة وعلامة (\times) أمام العبارة الخاطئة :	
	أ	الزمن المنقضي، وهو مقدار الزمن ما بين بداية النشاط ونهايته.
	ب	الكسر قد يمثل جزءا من الكل، أو جزءا من مجموعة .
	ج	يدل البسط على عدد الأجزاء .

٢	بدأ نشاط الساعة ٤:٤٥ وانتهى الساعة ٨ . ما الزمن الذي استغرقه هذا النشاط ؟						
	أ	٣ ساعات	ب	٣ ساعات و ١٥ دقيقة	ج	٣ ساعات و ٣٠ دقيقة	د

٣	ما الزمن الذي استغرقه هذا النشاط						
	أ	ساعة واحدة	ب	ساعة و ١٠ دقائق	ج	ساعة و ١٥ دقيقة	د


وَقْتُ الْبَدْءِ


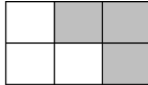
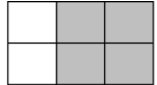


وَقْتُ الْانْتِهَاءِ



٤	ما الكسر الذي يمثل الجزء المظلل في الشكل المجاور :						
	أ	$\frac{2}{5}$	ب	$\frac{3}{5}$	ج	$\frac{5}{2}$	د



٥	اختر الرسم المظلل الذي يمثل الكسر : $\frac{4}{6}$						
	أ		ب		ج		د