





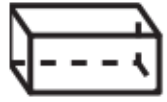







# اختبار الفصل

أ.أحمد الأحمد

@ahmad9963

أَكْتُبْ اسْمَ الشَّكْلِ فِي الْفَرَاغِ، ثُمَّ أَلَوِّنُ الْأَشْكَالَ الْمُشَابِهَةَ لَهُ:

.....			.....		
					



# أَحْوَطُ الْأَشْيَاءِ الَّتِي تُوَافِقُ الْوَصْفَ:

٤ له ٦ أَوْجُهٍ و ١٢ حَرْفًا و ٨ رُؤُوسٍ

٣ ٢ وَجْه ٠ حَرْف ٠ رَأْس



ألون الأشكال التي لها الاسم نفسه:

٦ متوازي أضلاع



٥ سداسي

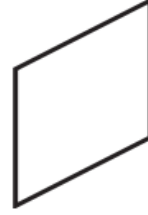


أ. أحمد الأحمد

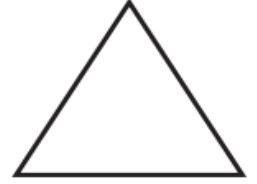
@ahmad9963

أَكْتُبْ عَدَدَ الْأَضْلَاعِ وَالرُّؤُوسِ:

أَضْلَاعٍ .....  
رُؤُوسٍ .....



أَضْلَاعٍ .....  
رُؤُوسٍ .....



أُكْمِلُ الْجُمْلَةَ الْآتِيَةَ:

شِبْهُ الْمُنْحَرَفِ وَالْمُسْتَطِيلِ مُتَشَابِهَانِ؛ لِأَنَّ:



.....  
.....



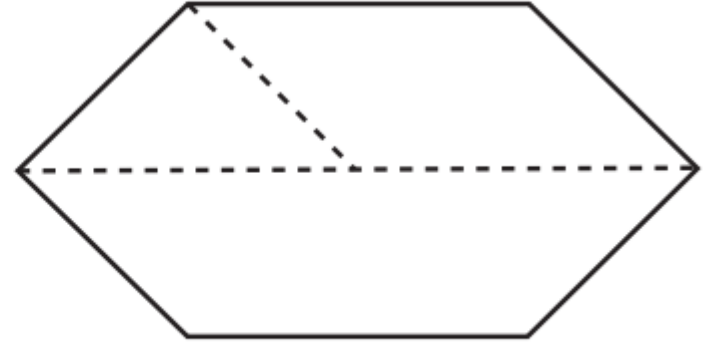
أَحْوِطُ الْأَشْكَالَ النَّاتِجَةَ عَنِ الشَّكْلِ أَدْنَاهُ:

مُسْتَطِيلٌ

شِبْهُ مُنْحَرَفٍ

مُتَوَازِي أَضْلَاعٍ

مُثَلَّثٌ



## أحل المسألة

١١ عند ياسر وأيمن مجسمان مختلفان، لكل منهما ٦ أوجه و ١٢ حرفاً و ٨ رؤوس.

ما اسم كل من هذين المجسمين؟

أ. أحمد الأحمدى

@ahmad9963