

المجموع الكلي	 رؤية 2030 وزارة التعليم	المملكة العربية السعودية وزارة التعليم الإدارة العامة للتعليم بمنطقة .....
		مدرسة /
٤٠		
<b>اختبار مادة العلوم ( الدور الأول ) الفصل الدراسي الثاني للعام الدراسي 1445 هـ</b>		

المادة	العلوم	الصف	الرابع
اليوم	التاريخ	زمن الاجابة	ساعة ونصف
اسم الطالب/ة			
رقم الجلوس	( )		

رقم السؤال	الدرجة المستحقة		اسم المصحح / ة	اسم المراجع / ة	اسم المدقق / ة
	الدرجة رقماً	الدرجة كتابة			
السؤال الأول					
السؤال الثاني					
السؤال الثالث					
السؤال الرابع					
المجموع					

يتبع ↓

## السؤال الأول :-

( أ ) نختار الاجابة الصحيحة فيما يلي :-

١	مرض ينتج عن خلل في مستويات الأنسولين التي يفرزها البنكرياس . . . . .	( أ ) الضغط	( ب ) السكري	( ج ) الحساسية	( د ) السل
٢	عندما تتعرض الصخور للحرارة والضغط ينتج عنها صخور . . . . .	( أ ) رسوبية	( ب ) متحولة	( ج ) نارية	( د ) بركانية
٣	المصدر الرئيسي للطاقة في أجسامنا هي . . . . .	( أ ) الدهون	( ب ) الكربوهيدرات	( ج ) الماء	( د ) الاملاح
٤	أكبر الكواكب لخارجية هو كوكب . . . . .	( أ ) زحل	( ب ) المشتري	( ج ) أورانوس	( د ) نبتون
٥	حفرة في باطن الأرض تصل إلى المياه الجوفية . . . . .	( أ ) البئر	( ب ) الخزان	( ج ) الدينمو	( د ) المحطة
٦	الخلايا التي تهاجم مسببات المرض هي خلايا . . . . .	( أ ) الدم البيضاء	( ب ) البلازما	( ج ) الدم الحمراء	( د ) الصفائح
٧	صخر ناري صلب يقاوم التجوية والتعرية . . . . .	( أ ) الجرانيت	( ب ) الرخام	( ج ) الطباشير	( د ) الجير
٨	نحصل على الفيتامينات من مصادرها . . . . .	( أ ) الفواكه	( ب ) الزبدة	( ج ) الزيت	( د ) اللحم
٩	تتكون الكواكب الصخرية من . . . . .	( أ ) الصخور	( ب ) الغازات	( ج ) الغبار	( د ) الجليد
١٠	نجد معظم الماء العذب في . . . . .	( أ ) البحار	( ب ) الغلاف الجوي	( ج ) المحيطات	( د ) القمم الجليدية

( ب ) ما المصطلح العلمي للعبارات التالية ( المحور , المناعة , المعدن , الكوكب , المرض ) :-

- ١- ( ..... ) حالة غير طبيعية تؤثر على جسم المخلوق الحي .
- ٢- ( ..... ) جسم كروي كبير يدور حول الشمس .
- ٣- ( ..... ) مادة صلبة غير حية تشكل الصخور .
- ٤- ( ..... ) قدرة الجسم على التصدي لمسببات الأمراض .
- ٥- ( ..... ) خط حقيقي أو وهمي يدور حول الجسم .

يتبع ↓

## السؤال الثاني :-

١٠

( أ ) نضع أشاره ( √ ) عند العبارات الصحيحة وعلامة ( × ) عند الخاطئة :-

( ..... )	يشكل الماء ثلثي جسم الإنسان	١
( ..... )	عملية توصيل الماء إلى التربة الزراعية تسمى الري	٢
( ..... )	من الأمثلة على الأمراض غير المعدية السمنة	٣
( ..... )	يحتوي الماء العذب على كمية قليلة من الاملاح	٤
( ..... )	عدد كواكب المجموعة الشمسية ثمانية كواكب	٥
( ..... )	يكون القمر مضاء كاملاً في طور المحاق	٦
( ..... )	جميع الفطريات ضارة	٧
( ..... )	إذا وصلت أجزاء من الشهب إلى سطح الأرض تسمى شهب	٨

( ب ) ماذا ينتج عن الظواهر التالية :-

- ١- دوران الأرض حول محورها ←  
.....
- ٢- دوران القمر حول الأرض ←  
.....

## السؤال الثالث :-

١٠

( أ ) نصل العمود ( أ ) بما يناسبه من العمود ( ب )

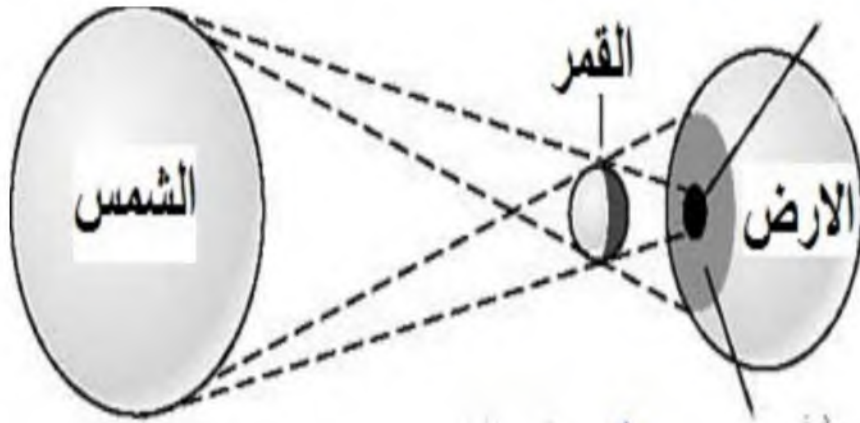
( أ )	( ب )
١ البروتينات	يساعد الجسم على الهضم
٢ الفيتامينات	تساعد على تكوين العظام
٣ الدهون	تساعد على النمو وتعويض الخلايا التالفة
٤ الأملاح المعدنية	تحافظ على صحة الجسم وبناء خلايا جديدة
٥ الماء	تزود الجسم بالطاقة وتمنحه الدفاء

( ب ) ماهي خصائص المعادن ؟

- ١-  
.....
- ٢-  
.....
- ٣-  
.....
- ٤-  
.....

يتبع ↓

ج) ما الظاهرة الكونية في الصورة التالية؟



( ..... )

السؤال الرابع :-

أ) مثلاً لكل مما يلي :-

١ - عادة صحية

..... ←

٢ - من موارد الأرض

..... ←

٣ - الكواكب الداخلية

..... ←

٤ - من الأمراض المعدية

..... ←

ب) ما الذي يسبب لنا الأمراض؟

.....

انتهت الأسئلة  
بالتوفيق  
سكرة الشمري

المجموع الكلي		المملكة العربية السعودية وزارة التعليم الإدارة العامة للتعليم بمنطقة .....
٤٠		مدرسة /
اختبار مادة العلوم ( الدور الأول ) الفصل الدراسي الثاني للعام الدراسي هـ		

المادة	العلوم	الصف	الرابع
اليوم	التاريخ	زمن الاجابة	ساعة ونصف
اسم الطالب/ة			
رقم الجلوس	( )		

نموذج اجابه

اسم المدقق / ة	اسم المراجع / ة	اسم المصحح / ة	الدرجة المستحقة		رقم السؤال
			الدرجة رقماً	الدرجة كتابة	
					السؤال الأول
					السؤال الثاني
					السؤال الثالث
					السؤال الرابع
					المجموع

يتبع ↓

## السؤال الأول :-

١٥

( أ ) نختار الاجابة الصحيحة فيما يلي :-

١	مرض ينتج عن خلل في مستويات الأنسولين التي يفرزها البنكرياس . . . . .	( أ ) الضغط	( ب ) السكري	( ج ) الحساسية	( د ) السل
٢	عندما تتعرض الصخور للحرارة والضغط ينتج عنها صخور . . . . .	( أ ) رسوبية	( ب ) متحولة	( ج ) نارية	( د ) بركانية
٣	المصدر الرئيسي للطاقة في أجسامنا هي . . . . .	( أ ) الدهون	( ب ) الكربوهيدرات	( ج ) الماء	( د ) الاملاح
٤	أكبر الكواكب لخارجية هو كوكب . . . . .	( أ ) زحل	( ب ) المشتري	( ج ) أورانوس	( د ) نبتون
٥	حفرة في باطن الأرض تصل إلى المياه الجوفية . . . . .	( أ ) البئر	( ب ) الخزان	( ج ) الدينمو	( د ) المحطة
٦	الخلايا التي تهاجم مسببات المرض هي خلايا . . . . .	( أ ) الدم البيضاء	( ب ) البلازما	( ج ) الدم الحمراء	( د ) الصفائح
٧	صخر ناري صلب يقاوم التجوية والتعرية . . . . .	( أ ) الجرانيت	( ب ) الرخام	( ج ) الطباشير	( د ) الجير
٨	نحصل على الفيتامينات من مصادرها . . . . .	( أ ) الفواكه	( ب ) الزبدة	( ج ) الزيت	( د ) اللحم
٩	تتكون الكواكب الصخرية من . . . . .	( أ ) الصخور	( ب ) الغازات	( ج ) الغبار	( د ) الجليد
١٠	نجد معظم الماء العذب في . . . . .	( أ ) البحار	( ب ) الغلاف الجوي	( ج ) المحيطات	( د ) القمم الجليدية

( ب ) ما المصطلح العلمي للعبارات التالية ( المحور , المناعة , المعدن , الكوكب , المرض ) :-

- ١- ( المرض ) حالة غير طبيعية تؤثر على جسم المخلوق الحي .
- ٢- ( الكوكب ) جسم كروي كبير يدور حول الشمس .
- ٣- ( المعدن ) مادة صلبة غير حية تشكل الصخور .
- ٤- ( المناعة ) قدرة الجسم على التصدي لمسببات الأمراض .
- ٥- ( المحور ) خط حقيقي أو وهمي يدور حول الجسم .

يتبع ↓

## السؤال الثاني :-

١٠

( أ ) نضع أشاره ( √ ) عند العبارات الصحيحة وعلامة ( × ) عند الخاطئة :-

( ..... ✓ ..... )	يشكل الماء ثلثي جسم الإنسان	١
( ..... ✓ ..... )	عملية توصيل الماء إلى التربة الزراعية تسمى الري	٢
( ..... ✓ ..... )	من الأمثلة على الأمراض غير المعدية السمنة	٣
( ..... ✓ ..... )	يحتوي الماء العذب على كمية قليلة من الاملاح	٤
( ..... ✓ ..... )	عدد كواكب المجموعة الشمسية ثمانية كواكب	٥
( ..... × ..... )	يكون القمر مضاء كاملاً في طور المحاق	٦
( ..... × ..... )	جميع الفطريات ضارة	٧
( ..... × ..... )	إذا وصلت أجزاء من الشهب إلى سطح الأرض تسمى شهب	٨

( ب ) ماذا ينتج عن الظواهر التالية :-

- ١- دوران الأرض حول محورها ← تعاقب الليل والنهار
- ٢- دوران القمر حول الأرض ← اطوار القمر

## السؤال الثالث :-

١٠

( أ ) نصل العمود ( أ ) بما يناسبه من العمود ( ب )

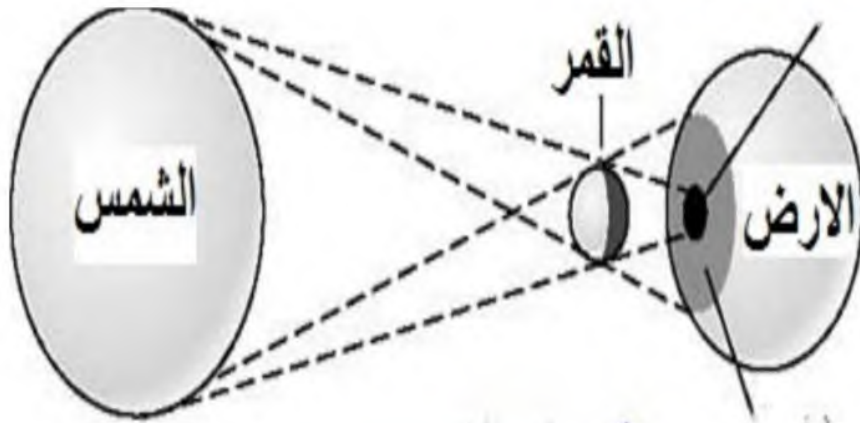
( أ )		( ب )
١ البروتينات	..... ٥ .....	يساعد الجسم على الهضم
٢ الفيتامينات	..... ٤ .....	تساعد على تكوين العظام
٣ الدهون	..... ١ .....	تساعد على النمو وتعويض الخلايا التالفة
٤ الأملاح المعدنية	..... ٢ .....	تحافظ على صحة الجسم وبناء خلايا جديدة
٥ الماء	..... ٣ .....	تزود الجسم بالطاقة وتمنحه الدفاع

( ب ) ماهي خصائص المعادن ؟

- ١- اللون
- ٢- القساوة
- ٣- البريق
- ٤- المخدش

يتبع ↓

ج) ما الظاهرة الكونية في الصورة التالية؟



( كسوف الشمس )

السؤال الرابع :-

أ) مثلاً لكل مما يلي :-

١ - عادة صحية

النوم، الرياضة

٢ - من موارد الأرض

الصخور، المعادن

٣ - الكواكب الداخلية

المريخ

٤ - من الأمراض المعدية

الانفلونزا

ب) ما الذي يسبب لنا الأمراض؟

الفيروسات البكتيريا الفطريات

انتهت الأسئلة  
بالتوفيق  
سكرة الشمري



المادة: علوم	 <p>رؤية 2030 وزارة التعليم</p> <p>أسئلة الاختبار النهائي (الفصل الدراسي الثاني) للعام الدراسي هـ</p>	المملكة العربية السعودية.
الصف: رابع الابتدائي		وزارة التعليم.
التاريخ: / / هـ		إدارة تعليم
اليوم:		مكتب تعليم
عدد الصفحات: ٣		مدرسة
الزمن: ساعة ونصف.		
اسم الطالب: .....		رقم الجلوس: .....

رقم السؤال	الدرجة التي حصلت عليها الطالبة		المصححة	المراجعة	المدققة
	رقمًا	كتابة			
الأول		فقط لا غير			
الثاني		فقط لا غير			
الثالث		فقط لا غير			
الرابع		فقط لا غير			
المجموع		فقط لا غير			



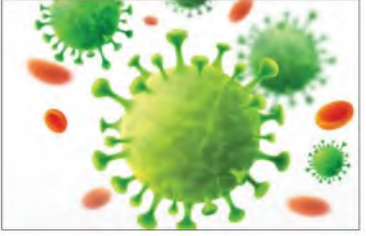
♥ السؤال الأول: (أ) أمامك مجموعة من المصطلحات ضعها في مكانها المناسب:

١٠

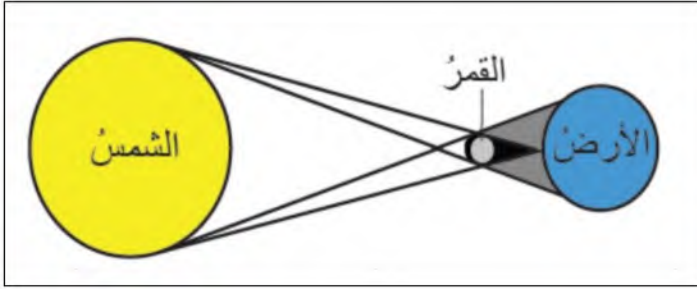
(الصحة - البئر - المرض - المعدن - الكوكب)

.....	١. حالة غير طبيعية تؤثر على جسم المخلوق الحي.
.....	٢. هي حالة اكتمال السلامة جسدياً وعقلياً ونفسياً.
.....	٣. مادة طبيعية غير حية صلبة، توجد في قشرة الأرض.
.....	٤. حفرة في باطن الأرض تصل إلى المياه الجوفية.
.....	٥. جرم كروي كبير يدور حول الشمس.

♥ (ب) صنفي الأمراض إلى (معدّي أو غير معدّي): -

		
مرض .....	مرض .....	مرض .....

♥ (ج) أجب عن الأسئلة التالية: -



١- ما اسم الظاهرة الكونية التي أمامك؟

.....

٢- ما سبب حدوث هذه الظاهرة؟

.....

١٠

السؤال الثاني: اختاري الإجابة الصحيحة لكل فقرة من الفقرات التالية؟

١	الخلايا المسؤولة عن حماية الجسم ومحاربة الأمراض والجراثيم هي خلايا .....		
	البلازما	الدم الحمراء	الدم البيضاء
٢	درجة حرارة جسم الإنسان الطبيعية هي:		
	٤٠° س	٢٨° س	٣٧° س
٣	من طرق انتقال العدوى؟		
	غسل اليدين	لبس الكمامة	السعال
٤	من العادات الغير صحية؟		
	الإكثار من شرب الماء	النوم المبكر	تناول الحلويات
٥	اللون والبريق والقساوة من الخصائص التي تميز؟		
	الأحافير	المعدن	التربة
٦	أي المعادن التالية أكثر ليونة وطراوة؟		
	الكوارتز	التلك	الألماس
٧	أكبر الكواكب في المجموعة الشمسية؟		
	عطارد	المشتري	الأرض
٨	كرة من الغازات الساخنة ينبعث منها الضوء والحرارة؟		
	القمر	الشمس	الأرض
٩	تتكون المناعة ..... عن طريق أخذ التطعيم أو اللقاحات.		
	الآلية	الاصطناعية	الطبيعية
١٠	معظم المياه المالحة على سطح الأرض توجد في		
	الأنهار	البحار	الجليديات

اقلبي الصفحة

السؤال الثالث: (أ) ضع علامة (✓) أمام العبارة الصحيحة و (X) أمام العبارة الخاطئة:

١٠

( )	١. الري هو عملية توصيل الماء إلى التربة الزراعية
( )	٢. يدور القمر حول الأرض دورة كاملة في ٢٠ يوم.
( )	٣. أقرب الكواكب إلى الشمس هو عطارد.
( )	٤. الصخور النارية تتكون من صخور أخرى بفعل الضغط والحرارة.
( )	٥. عدد كواكب المجموعة الشمسية ثمانية كواكب
( )	٦. يكون القمر مظلم كامل في طور البدر.
( )	٧. الفيروسات مخلوقات مجهرية ضارة بجميع أنواعها.
( )	٨. تتكون النيازك من الصخور والجليد والغبار.

(ب) أعطي مثال واحد لكل مما يلي:

- ١- من النواقل الحيوية: .....
- ٢- مصادر المياه العذبة: .....

السؤال الرابع: (أ) اختاري الرقم الصحيح للعمود ب من العمود أ:

١٠

(ب)	الرقم	(أ)
يشكل ثلثي جسم الإنسان ويساعد على الهضم.		١. الكربوهيدرات
تساعد الجسم على النمو وتعويض الخلايا التالفة.		٢. الدهون
تعطي الجسم الدفء وتخزن الفيتامينات.		٣. البروتينات
المصدر الرئيسي للطاقة في أجسامنا.		٤. الماء

(ب) أكمل الجدول حسب المطلوب منك:

	
▪ دورة الأرض حول .....	▪ دورة الأرض حول .....
▪ تستغرق في الدوران مدة .....	▪ تستغرق في الدوران مدة .....
▪ ينتج عن الدوران .....	▪ ينتج عن الدوران .....

انتهت الأسئلة والله الحمد  
دعواتي لكم بالتوفيق والنجاح  
معلمة المارة:

المادة: علوم	 <p>رؤية VISION 2030 وزارة التعليم</p> <p>أسئلة الاختبار النهائي (الفصل الدراسي الثاني) للعام الدراسي هـ</p>	المملكة العربية السعودية.
الصف: رابع الابتدائي		وزارة التعليم.
التاريخ: / / هـ		إدارة تعليم
اليوم:		مكتب تعليم
عدد الصفحات: ٣		مدرسة
الزمن: ساعة ونصف.		اسم الطالب:
رقم الجلوس: :		

رقم السؤال	الدرجة التي حصلت عليها الطالبة		المصححة	المراجعة	المدققة
	رقمًا	كتابة			
الأول	١٠	فقط لا غير			
الثاني	١٠	فقط لا غير			
الثالث	١٠	فقط لا غير			
الرابع	١٠	فقط لا غير			
المجموع	٤٠	فقط لا غير			

♥ السؤال الأول: (أ) أمامك مجموعة من المصطلحات ضعها في مكانها المناسب:

١٠

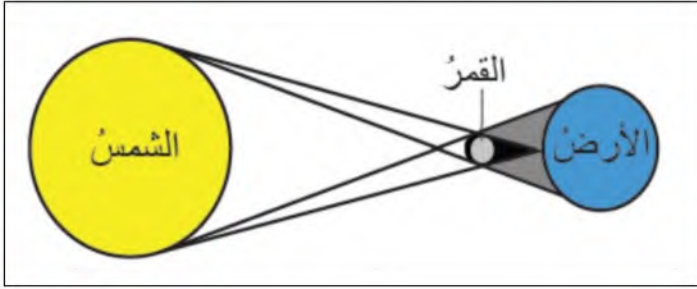
(الصحة - البئر - المرض - المعدن - الكوكب)

المرض	١. حالة غير طبيعية تؤثر على جسم المخلوق الحي.
الصحة	٢. هي حالة اكتمال السلامة جسدياً وعقلياً ونفسياً.
المعدن	٣. مادة طبيعية غير حية صلبة، توجد في قشرة الأرض.
البئر	٤. حفرة في باطن الأرض تصل إلى المياه الجوفية.
الكوكب	٥. جرم كروي كبير يدور حول الشمس.

♥ (ب) صنفي الأمراض إلى (معدي أو غير معدي): -

		
مرض غير معدي	مرض معدي	مرض معدي

♥ (ج) أجيب عن الأسئلة التالية: -



١- ما اسم الظاهرة الكونية التي أمامك؟

ظاهرة كسوف الشمس

٢- ما سبب حدوث هذه الظاهرة؟

بسبب وقوع القمر بين الشمس والأرض.

١٠

السؤال الثاني: اختاري الإجابة الصحيحة لكل فقرة من الفقرات التالية؟

١	الخلايا المسؤولة عن حماية الجسم ومحاربة الأمراض والجراثيم هي خلايا .....	الدم البيضاء	الدم الحمراء	البلازما
٢	درجة حرارة جسم الإنسان الطبيعية هي:	٣٧° س	٢٨° س	٤٠° س
٣	من طرق انتقال العدوى؟	السعال	لبس الكمامة	غسل اليدين
٤	من العادات الغير صحية؟	تناول الحلويات	النوم المبكر	الإكثار من شرب الماء
٥	اللون والبريق والقساوة من الخصائص التي تميز؟	التربة	المعدن	الأحافير
٦	أي المعادن التالية أكثر ليونة وطراوة؟	الألماس	التلك	الكوارتز
٧	أكبر الكواكب في المجموعة الشمسية؟	الأرض	المشتري	عطارد
٨	كرة من الغازات الساخنة ينبعث منها الضوء والحرارة؟	الأرض	الشمس	القمر
٩	تتكون المناعة ..... عن طريق أخذ التطعيم أو اللقاحات.	الطبيعية	الاصطناعية	الآلية
١٠	معظم المياه المالحة على سطح الأرض توجد في	الجليديات	البحار	الأنهار

اقلبي الصفحة

السؤال الثالث: (أ) ضع علامة (✓) أمام العبارة الصحيحة و (X) أمام العبارة الخاطئة:

١٠

( ✓ )	١. الري هو عملية توصيل الماء إلى التربة الزراعية
( X )	٢. يدور القمر حول الأرض دورة كاملة في ٢٠ يوم.
( ✓ )	٣. أقرب الكواكب إلى الشمس هو عطارد.
( X )	٤. الصخور النارية تتكون من صخور أخرى بفعل الضغط والحرارة.
( ✓ )	٥. عدد كواكب المجموعة الشمسية ثمانية كواكب
( X )	٦. يكون القمر مظلم كامل في طور البدر.
( ✓ )	٧. الفيروسات مخلوقات مجهرية ضارة بجميع أنواعها.
( X )	٨. تتكون النيازك من الصخور والجليد والغبار.

♥ (ب) أعطي مثال واحد لكل مما يلي:

١- من النواقل الحيوية: الكلاب ، الفئران ، الطيور ، البعوض ، الذباب

٢- مصادر المياه العذبة: البرك ، الأنهار ، الجداول ، الآبار ، المياه الجوفية ، القمم الجليدية.

السؤال الرابع: (أ) اختاري الرقم الصحيح للعمود ب من العمود أ:

١٠

(ب)	الرقم	(أ)
يشكل ثلثي جسم الإنسان ويساعد على الهضم.	٤	١. الكربوهيدرات
تساعد الجسم على النمو وتعويض الخلايا التالفة.	٣	٢. الدهون
تعطي الجسم الدفء وتخزن الفيتامينات.	٢	٣. البروتينات
المصدر الرئيسي للطاقة في أجسامنا.	١	٤. الماء

♥ (ب) أكمل الجدول حسب المطلوب منك:

	
▪ دورة الأرض حول الشمس	▪ دورة الأرض حول محورها
▪ تستغرق في الدوران مدة ٣٦٥, ٢٥ يوم أو سنة ميلادية كاملة.	▪ تستغرق في الدوران مدة ٢٤ ساعة أو يوم كامل
▪ ينتج عن الدوران الفصول الأربعة	▪ ينتج عن الدوران الليل والنهار

انتهت الأسئلة والله الحمد  
دعواتي لكم بالتوفيق والنجاح  
معلمة المارة:

المادة: علوم			المملكة العربية السعودية.
الصف: رابع الابتدائي	رؤية 2030 وزارة التعليم		وزارة التعليم
التاريخ: / / 1445هـ	إدارة تعليم		1- ما اسم الظاهرة الكونية التي أمامك؟
اليوم:	مكتبات تعليم		إدارة تعليم
عدد الصفحات: 3	1445هـ		مكتبات تعليم حدوث هذه الظاهرة
الزمن: ساعة ونصف.	اسم الطالب: .....		مدرسة
	رقم الجلوس: .....		

رقم السؤال	الدرجة التي حصلت عليها الطالبة		المصححة	المراجعة	المدققة
	رقمًا	كتابة			
الأول					
الثاني					
الثالث					
الرابع					
المجموع					

♥ السؤال الأول: (أ) أمامك مجموعة من المصطلحات ضعها في مكانها المناسب:  
(الصحة - البئر - المرض - المعدن - الكوكب)

10

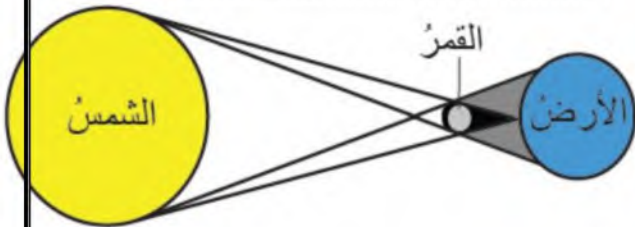
1. حالة غير طبيعية تؤثر على جسم المخلوق الحي.

2. هي حالة اكتمال السلامة جسديًا وعقليًا ونفسيًا.

3. مادة طبيعية غير حية صلبة، توجد في قشرة الأرض.

4. حفرة في باطن الأرض تصل إلى المياه الجوفية.

5. جرم كروي كبير يدور حول الشمس.



♥ (ب) صنفى الأمراض إلى (معدى أو غير معدى): -

	مرض	..		مر	..		مرد
---	-----	----	---	----	----	---	-----

اقلبي الصفحة

♥ (ج) أجب عن الأسئلة التالية: -

السؤال الثاني: اختاري الإجابة الصحيحة لكل فقرة من الفقرات التالية؟

1 الخلايا المسؤولة عن حماية الجسم ومحاربة الأمراض والجراثيم هي خلايا .....

البلازما	الدم الحمراء	الدم البيضاء	
درجة حرارة جسم الإنسان الطبيعية هي:			2
40 °س	28 °س	37 °س	
من طرق انتقال العدوى؟			3
غسل اليدين	لبس الكمامة	السعال	
من العادات الغير صحية؟			4
الإكثار من شرب الماء	النوم المبكر	تناول الحلويات	
اللون والبريق والقساوة من الخصائص التي تميز؟			5
الأحافير	المعدن	التربة	
أي المعادن التالية أكثر ليونة وطلاوة؟			6
الكوارتز	التلك	الألماس	
أكبر الكواكب في المجموعة الشمسية؟			7
عطارد	المشتري	الأرض	
كرة من الغازات الساخنة ينبعث منها الضوء والحرارة؟			8
القمر	الشمس	الأرض	
تتكون المناة ..... عن طريق أخذ التطعيم أو اللقاحات.			9
الآلية	الاصطناعية	الطبيعية	
معظم المياه المالحة على سطح الأرض توجد في			10
الأنهار	البحار	الجليديات	

السؤال الثالث: (أ) ضع علامة (✓) أمام العبارة الصحيحة و (X) أمام العبارة الخاطئة:

(ب) أعطي مثال واحد لكل مما يلي:

- |    |   |     |
|----|---|-----|
| 10 | 1. الري هو عملية توصيل الماء إلى التربة الزراعية          | ( ) |
|    | 2. يدور القمر حول الأرض دورة كاملة في 20 يوم.             | ( ) |
|    | 3. أقرب الكواكب إلى الشمس هو عطارد.                       | ( ) |
|    | 4. الصخور النارية تتكون من صخور أخرى بفعل الضغط والحرارة. | ( ) |
|    | 5. عدد كواكب المجموعة الشمسية ثمانية كواكب                | ( ) |
|    | 6. يكون القمر مظلم كامل في طور البدر.                     | ( ) |
|    | 7. الفيروسات مخلوقات مجهرية ضارة بجميع أنواعها.           | ( ) |
|    | 8. تتكون النيازك من الصخور والجليد والغبار.               | ( ) |



1- من النواقل الحيوية:.....

2- مصادر المياه العذبة:.....

♥ السؤال الرابع: (أ) اختاري الرقم الصحيح للعمود ب من العمود أ :

10

(ب)	الرقم	(أ)
يشكل ثلثي جسم الإنسان ويساعد على الهضم.		1. الكربوهيدرات
تساعد الجسم على النمو وتعويض الخلايا التالفة.		2. الدهون
تعطي الجسم الدفاء وتخزن الفيتامينات.		3. البروتينات
المصدر الرئيسي للطاقة في أجسامنا.		4. الماء

♥ (ب) أكمل الجدول حسب المطلوب منك:

	
.....	.....
.....	.....
.....	.....

انتهت الأسئلة والله الحمد  
دعواتي لكن بالتوفيق والنجاح  
معلمة المادة

انتهت الأسئلة والله الحمد  
دعواتي لكن بالتوفيق والنجاح  
.....