

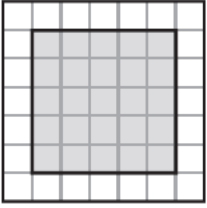
ورقة تدريبات: قياس المساحة

الاسم :

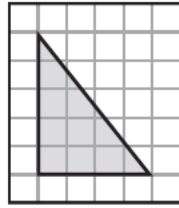
الصف : الثالث

التاريخ / / ١٤٤ هـ

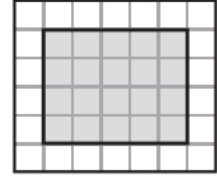
اجد مساحة كل شكل مما يأتي:




٣



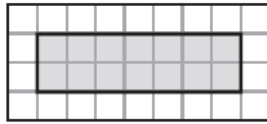
٢



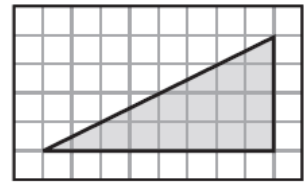
١



٦



٥



٤

أحلُّ كلاً من المسألتين الآتيتين :

٧ رَسَمَ خَالِدٌ لَوْحَةً مَرَبَعَةً الشَّكْلِ، إِذَا كَانَ طُولُ ضَلْعِهَا ٢ م، فَمَا مِسَاحَةُ هَذِهِ اللَّوْحَةِ؟

٨ أُنشِئَتْ بَرَكَةٌ لِلسَّبَاحَةِ فِي المَدْرَسَةِ، إِذَا كَانَ طُولُ البَرَكَةِ ٣٠ مِترًا وَعَرْضُهَا ٨ أمتارًا، فَمَا مِسَاحَتُهَا؟