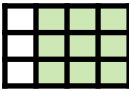




الصف:

الاسم:

<p>١ / أي كسر مما يلي يمثل الجزء المظلل في أبسط صورة ؟</p> 			
<p>أ) $\frac{1}{4}$</p>	<p>ب) $\frac{3}{4}$</p>	<p>ج) $\frac{9}{16}$</p>	<p>د) $\frac{9}{14}$</p>
<p>٢ / النسبة التي تقارن عدد المثلجات إلى عدد الكعكات في أبسط صورة هي :</p> 			
<p>أ) ٨ : ٦</p>	<p>ب) ٦ : ٨</p>	<p>ج) ٤ : ٣</p>	<p>د) ٣ : ٤</p>
<p>٣ / لدينا ٣ سيارات مختلفة كما في الشكل ، نريد ترتيبها في صف واحد ، عدد الطرق المختلفة التي يمكننا بها صف السيارات هي ؟</p> 			
<p>أ) ٥ طرق</p>	<p>ب) ٦ طرق</p>	<p>ج) ٧ طرق</p>	<p>د) ٨ طرق</p>
<p>٤ / إذا كان عمر أمل يقل عن عمر هند ب ٣ سنوات ، وكان عمر أمل يساوي ١٢ سنة . ما المعادلة الصحيحة لحساب عمر هند ؟</p>			
<p>أ) $١٢ = ٣ - س$</p>	<p>ب) $١٢ = ٣ + س$</p>	<p>ج) $١٢ = ٣ س$</p>	<p>د) $١٢ = س + ٣$</p>
<p>٥ / لدى أمل عدد من علب العصير الصغيرة سعة كلاً منها ٢٥٠ مل . فكم علبة تحتاج منها لملء وعاء سعته ٣ لتر ؟</p>			
<p>أ) ٤ علب</p>	<p>ب) ٨ علب</p>	<p>ج) ١٢ علبة</p>	<p>د) ١٦ علبة</p>

الاسم		
التاريخ	الدرجة	
د ج ب أ	د ج ب أ	
١ ○○○○	١١ ○○○○	
٢ ○○○○	١٢ ○○○○	
٣ ○○○○	١٣ ○○○○	
٤ ○○○○	١٤ ○○○○	
٥ ○○○○	١٥ ○○○○	
٦ ○○○○	١٦ ○○○○	
٧ ○○○○	١٧ ○○○○	
٨ ○○○○	١٨ ○○○○	
٩ ○○○○	١٩ ○○○○	
١٠ ○○○○	٢٠ ○○○○	

النجاح محصلة اجتهادات صغيرة ، تتراكم يوماً بعد يوم .

الاستاذة : مريم البقايي

الصف :

الاسم :

١/ إذا كان عرض التلفاز ١,٢ م ، فكم عرضه بالسنتيمتر ؟			
١٢٠ (د)	١٢ (ج)	٠,١٢ (ب)	٠,٠١٢ (أ)
٢/ $12,94 + 7,324 = \dots\dots\dots$			
١٩,٤١٨ (د)	١٩,٣١٦ (ج)	٢٠,٢٦٤ (ب)	٢٠,٣١٨ (أ)
٣/ أرادت شركة الطيران أن تضع قيودًا لحجم حقائب السفر التي يأخذها المسافرون داخل الطائرة ، وحدة الحجم المناسبة للحقيبة هي :			
٣ ملم (د)	٣ سم (ج)	٣ م (ب)	٣ كلم (أ)
٤/ العبارة الجبرية $3(5س + 2)$ تكافئ			
٦ + ٣س (د)	٦ + ٥س (ج)	٦ + ١٥س (ب)	٥ + ٨س (أ)
٥/ أي الاعداد التالية هو الأكبر ؟			
٣٥٦٤٢٨ (د)	٣٢٥٨٦٤ (ج)	٣٥٢٨٤٦ (ب)	٣٥٨٢٤٦ (أ)

الاسم		
التاريخ	الدرجة	
د ج ب أ	د ج ب أ	
١ ○○○○	١١ ○○○○	
٢ ○○○○	١٢ ○○○○	
٣ ○○○○	١٣ ○○○○	
٤ ○○○○	١٤ ○○○○	
٥ ○○○○	١٥ ○○○○	
٦ ○○○○	١٦ ○○○○	
٧ ○○○○	١٧ ○○○○	
٨ ○○○○	١٨ ○○○○	
٩ ○○○○	١٩ ○○○○	
١٠ ○○○○	٢٠ ○○○○	

النجاح محصلة اجتهادات صغيرة ، تتراكم يوماً بعد يوم .

الاستاذة : مريم البقيالي