

تنويه

طلابنا الأعزاء: المصدر الدراسي الموثوق مئة بالمئة والطريق الوحيد لنيل العلامة الكاملة هو كتابك المدرسي الرسمي المقرر من وزارة التربية في الجمهورية العربية السورية وأي مصدر آخر يعتبر مساعد فقط في عملية الدراسة لمراجعة المعلومة بشكل سريع

إخلاء مسؤولية

إن هذا الملف وغيره من الملفات الدراسية التي نقوم بتحميلها ورفعها لكم عبر صفحتنا مرسله من قبل طلاب قاموا بتصوير هذه الملخصات والأوراق الدراسية ليساعدوا زملائهم الذين لم يتمكنوا من تسجيل دورات مراجعة بسبب الظروف الخاصة للطلاب وعليه فإن هذا الملف يجب مراجعته عند الدراسة تحسباً لوجود أخطاء غير مقصودة

ملاحظات هامة

هذا الملف ليس ملك لنا ولسنا نحن من حصل عليه وإنما مشاركة من قبل الطلاب وعليه نرجو الالتزام بالملاحظات الآتية

١- هذا الملف غير مخصص للبيع أو للتجارة

٢- في معظم الملفات نطلب أن يتم تصوير الغلاف وذلك حتى من يرغب بشراء نسخة من الملف يقوم بمراجعة صورة الغلاف وشراءه من المكتبة المعنية ببيع هذا الملخص

٣- نحن ك جهة ناشرة لا نحقق أي مكاسب سواء مادية أو غير مادية من تلك الملفات التي نقوم برفعها لكم وإنما فقط لمساعدة الطلاب في الوصول لمراجع دراسية شاملة

٤- ملاحظة مكررة: لا يوجد أي ملخص أفضل من الكتاب المدرسي الرسمي المقرر

طريقة تحميل الملفات

جميع الملفات التي نقوم بنشرها ترفع مباشرة على قناتنا (سوريانا التعليمية) عبر منصة التيلجرام بصيغة ملف جاهز للطباعة وبدقة عالية للدراسة وليس لدينا اسم آخر للنشر

قسم مادة التاريخ

النصوص التاريخية:

اقرأ النص التاريخي الآتي، ثم أجب: (90 درجة)

حافظت سورية عامة وحب خاصة على مكانتها التجارية نظراً لموقعها الجغرافي، فحلب نقطة تواصل اقتصادي فيها كل صناعات الشرق ومركز تجاري لبضائع الهند والعراق، وقد حافظ التجار الحلبيون على تجارة مدينتهم بتعميق العلاقات مع منطقة الجزيرة السورية التي أمدت حلب بالمنتجات الزراعية وتحولت حركة الاستيراد والتصدير إلى ميناء اللاذقية وطرابلس بعد سلب الفرنسيين لواء اسكندرون وحرمان حلب من مرفأها الطبيعي. طورت سورية نظامها الاقتصادي بعد الاستقلال أصدرت قوانين لتأمين ورفد خزينة الدولة بالعملة الأجنبية وأقيمت مصانع الإسمنت في طرطوس عام 1977، وظهر القطاع العام والخاص ونشأت المدن الصناعية. أصبحت قناة السويس بعد افتتاحها عام 1869م محور الطرق التجارية، مما أثر على حلب ومنع عنها صادرات البلدان المجاورة لها، زاد الأمر سوءاً قطع الاحتلال الفرنسي عليها سبل التجارة مع شمال العراق وجنوب تركيا، وحرمانها من إطلالتها البحرية بسلب لواء اسكندرون مرفأها الطبيعي عام 1939م.

- 1- ضع عنواناً للنص. أهمية موقع حلب التجارية.
- 2- ما الأفكار الفرعية في النص. موقع حلب الهام / نشاط التجار الحلبيون / الاعتماد على ميناء اللاذقية وطرابلس بعد سلب لواء اسكندرون
- 3- ما أثر قناة السويس على مدينة حلب.
- 3- ما الحقائق التي ذكرها النص.
- 4- ما الجهود التي بذلها الحلبيون للحفاظ على الأهمية التجارية لمدينتهم.
- 5- ما الدليل على أن حلب العاصمة الاقتصادية وموقعها التجاري.
- 6- ما المستمر وما المتغير؟
- 7- ما الدليل على التطور الصناعي بعد استقلال سورية.
- 8- علام يدل تعدد قطاعات الإنتاج الصناعي في سورية.

أثار تحكم العرب في طرق التجارة البحرية لمرحلة زمنية طويلة (تمتد من القرن السابع حتى القرن الخامس عشر الميلادي) رغبة الأوربيين في إيجاد طريق يسمح لهم بالإبحار والتجارة دون المرور بالأراضي العربية، مما دفعهم إلى البحث عن طريق بحري بديل فكانت معرفة طريق رأس الرجاء الصالح، أحد أسباب انهيار الدولة المملوكية عام 1517 لأنه حوّل حركة التجارة العالمية إليه بدلاً من مرورها في أراضيها، فتغيرت أحوال المجتمع العربي الاقتصادية والسياسية والاجتماعية.

- 1- ما الفكرة الرئيسية للنص. تحول طرق التجارة العالمية
- 2- ماذا تستنتج من سعي الأوربيين للسيطرة على طرق التجارة البحرية؟
- 3- ما أثر اكتشاف رأس الرجاء الصالح في طرق التجارة وتعزيز مكانتهم الاقتصادية.
- السياسية: انهيار حلم دولة المماليك.
- الاقتصادية: خسارة العرب لمكانتها الاقتصادية وذلك لخسارتها للرسوم التي كانت تفرضها على التجار.
- 4- استخرج حقائق من النص؟

أسست غرفة تجارة دمشق عام 1830م نتيجة نمو الوعي عند التجار تجاه المخاطر المحدقة بالأوضاع الاقتصادية في سورية، وللدفاع عن مصالحهم وتنظيم كفالاتهم وبعد احتلال فرنسا لسورية عملت هذه الغرفة على مراقبة السياسات الجمركية والضريبية التي اتبعتها الاحتلال، ونشرت في الجاند المحلية وبشكل يومي أسعار البضائع والعملة وكل ما يهم التجار، ونفذت كثيراً من مشاريع البنى التحتية كمشروع جر مياه عين الفيحة إلى مدينة دمشق عام 1932م، بمساهمة وطنية من لطف الحفار وفارس الخوري وغيرهما، وفي الوقت الحاضر تمارس غرفة تجارة دمشق نشاطها في خدمة وتمثيل المؤسسات التجارية والصناعية والترويج لها والدفاع عنها.

- ما الدليل على المساهمة الوطنية؟ تأسيس غرفة تجارة دمشق ومشروع عين الفيحة للحفار.
- استخرج حقائق من النص؟

بعد احتلال فرنسا سورية عانت الصناعة من صعوبات جديدة نتيجة احتكار فرنسا المواد الأولية واعتماد سياسة الباب المفتوح، التي أدت إلى إغراق البلاد بالبضائع الأجنبية. حافظت الصناعة والحرف السورية على جودتها بسبب اليد الماهرة والعقلية المهنية المجتهدة عن طريق تطوير أدواتها والتكيف مع الاختراعات الحديثة فعمد السوريون إلى استيراد الأدوات الحديثة كاستيراد نول الجكار الذي أدخله حنا بولاد. وكان لصناعة البروكار خصوصية في الحرف السورية، وصل صداها إلى جميع بلدان العالم وارتبط اسمها بمدينة دمشق وتعد من أنفس المقتنيات التي يتباهي بها الملوك كالمملكة إليزابيث الثانية التي ارتدت ثوباً من البروكار بمناسبة زفافها وشهدت هذه الصناعة تعديلات بإدخال آلات حديثة. كما اتبعت سياسة فرنسية عام 1920م بعرقلة التجارة الخارجية وتحطيم السوق وفرض رأس المال ورخص أسعارها بأقل من بضائع التجار السوريين. لما قامت الثورة السورية الكبرى قصفت فرنسا المحال التجارية - منحت الدولة العثمانية الأوربيين امتيازات ازدادت مع الثورة الصناعية واشتداد المنافسة بين الصناعيين السوريين والأوربيين فأنشأت الشركة المساهمة التي أنشأت منسوجات وطنية.

- 1- ما المشكلة التي يطرحها النص؟

- 2- ما الحلول التي يقدمها
- 3- علام يدل ارتداء الملكة إليزابيث الثانية فستان زفافها من البروكار السوري. يدل على أهمية الصناعة السورية وحرقيتها في الحرير.
- 4- أكمل الجدول التالي وفق مبدأ السبب والنتيجة؟

الحدث	السبب	النتيجة
-------	-------	---------

تراجع الصناعة السورية	احتكار فرنسا للمواد الأولية اللازمة للصناعة
الحفاظ على الصناعة والحرف السورية	احداث تحول جذري في مسار الصناعة السورية

6- ما الدليل على المنافسة بين الأوربيين والسوريين

7- ما هي سياسة فرنسا في سورية عام 1920؟

8- ما الدليل على عالمية البروكار السوري؟

9- ما الدليل على استيراد التجار أدوات الإنتاج الأوربية؟

10- ما دلالة قصف فرنسا المحال التجارية؟

11- ما العلاقة بين الثورة الصناعية وتدفق البضائع الأوربية؟

تعددت المرافئ في سورية، رغم سيطرة الأوربيين على الطرق التجارية البحرية في العصور الحديثة، حيث استمرت بدورها في نقل الركاب والبضائع، فكانت المراكب تلجأ إلى مرفأ بيروت واللاذقية للحماية من العواصف أو تفريغ الحمولة. وفي عام 1931 وسع ميناء اللاذقية بإنشاء الرصيف الشمالي ثم الرصيف الجنوبي وبعد الاستقلال أحدثت شركة مرفأ اللاذقية، ثم مرفأ طرطوس، وقد تطور الأسطول التجاري السوري بعد إصدار مرسوم 1971، أعفت بموجبه مالكي السفن من الرسوم والضرائب لراغبين بتسجيلها تحت العلم السوري.

1- حدد في أي قرن وأي عقد تم إصدار المرسوم 1976م؟ القرن العشرون، العقد الثامن.

2- ما الدليل على تطور الأسطول التجارة السورية؟

3- استخرج من النص حقيقة تاريخية.

عاش السوريون ظروف اقتصادية صعبة بسبب الحرب العالمية الأولى التي ألفت بنتائجها على الفئات المتوسطة والفقيرة فتدهورت أوضاع الزراعة وتدنى مستوى الإنتاج، فاشتد الجلاء وعظم القحط والجوع، وما زاد الأوضاع سوءاً الإجراءات التي اتخذها حاكم دمشق العسكري خلال الحرب العالمية الأولى جمال باشا ضد الأهالي ومنها مصادرة المحاصيل الزراعية وفرض الإعانات لدعم الجيش العثماني ومصادرة الأملاك والأموال، بالإضافة إلى موجة من الجراد أصابت المحاصيل الزراعية، وكانت أسوأ ما جرى في تاريخ سورية فاشتد الجوع ونقص الخبز وأصبح الغني من يملك قوت يومه.

- قارن بين الزراعة السورية في العهد العثماني والفرنسي.

- ما فكرة النص الرئيسية.

- ما الأفكار الفرعية للنص.

- استخرج من النص حقائق.

- ما الدليل على سوء الأوضاع الاجتماعية في تلك الفترة.

في مرحلة ضعف الدولة العثمانية بدأت الأطماع الأوربية فتلقت حكومة فرنسا تقرير (تاليران) 1798، ذكر فيه العلاقات بين فرنسا ومصر والآراء التي تتادي بمزايا الاستيلاء على مصر. تبين أن الفرصة سانحة لإرسال حملة إلى مصر، كما تناول المشروع إعداد الرجال وتجهيز السفن اللازمة لحملتهم وخطة الغزو العسكري ودعا إلى مراعاة تقاليد أهل مصر ومعتقداتهم الدينية، وكسب مودتهم بتبجيل علمائهم واحترام أهل الرأي منهم. حيث هدفت فرنسا من إرسال حملتها إلى إنشاء قاعدة عسكرية تضرب المصالح البريطانية على طريق الهند وتسيطر على البحر المتوسط وعلى طرق التجارة البحرية في حين قدم الفرنسيون أنفسهم أنهم قادمون لإنقاذ مصر من حكامها وإقرار العدل والمساواة بين سكانها حيث أظهرتهم الحملة كممثلين للتطوير والتحديث في أوروبا. وأرسلت فرنسا جواسيس رحالة وتجار ومستشرقين وتنافسوا مع بريطانية على احتلال مصر.

- ضع عنوان للنص. أسباب احتلال فرنسا لمصر

- في أي قرن وعقد تم إصدار تقرير تاليران.

- ما الأسباب المعلنة؟ وما الأسباب الحقيقية.

- ما الحقائق التي يذكرها النص وما وجهات النظر.

- كيف مهدت فرنسا لاحتلال مصر؟

نتيجة المقاومة العربية للحملة فشلت في تحقيق أهدافها فبعد ثلاث سنوات انسحب الفرنسيون عائدين مهزومين، لكن الحملة أكدت أهمية المنطقة العربية التي أصبحت ميداناً للتنافس والاحتلال، فأتجهت فرنسا بأنظارها نحو الجزائر، واحتلتها عام 1830م بينما هيمنت بريطانيا على الخليج العربي عن طريق سلسلة من معاهدات الحماية عام 1892م كما أظهرت الحملة الفجوة الكبيرة التي أصبحت تفصل بين أوروبا ومنطقتنا العربية في مختلف مجالات العلوم والصناعة، فأدخلت مطبعتين إلى مصر، واحدة بالأحرف العربية والثانية بالأحرف الفرنسية، ووضع كتاب (وصف مصر) وبيّنت أهمية وصل البحر المتوسط بالبحر الأحمر. وأظهرت الحملة الفرنسية ممثلة للتطور والتحديث في أوروبا.

- علل فشل حملة نابليون في تحقيق أهدافها؟ نتيجة المقاومة العربية للحملة انسحبت بعد 3 سنوات وعادوا مهزومين.

- ما الدليل على اهتمام أوروبا بالوطن العربي؟

- ما أبعاد الحملة الفرنسية بالنسبة للمصريين؟

بعد إدراك الشعب العربي السوري الهدف الحقيقي من المؤتمرات الدولية عقد مؤتمر وطني سمي المؤتمر السوري العام عام 1919م عن طريق إجراء انتخابات شرعية تجمع ممثلين عن المناطق السورية، كان المؤتمر بمثابة برلمان، رفض كافة القرارات والخطط والمؤامرات الغربية مؤكداً على الاستقلال التام لسورية الطبيعية ووحدة أراضيها، وعدم قبول الانتداب الفرنسي ووعده بلفور كما دعا إلى استقلال العراق دون أن تكون هناك حواجز اقتصادية بينه وبين سورية.

- 1- ما الفكرة الرئيسية للنص. قرارات المؤتمر السوري العام 1919.
- 2- ما دلالة عقد المؤتمر السوري العام. الوعي السياسي والثقافي لدى السوريين للوصول إلى الحرية والاستقلال وإدراكه الخطر الحقيقي من المؤتمرات الدولية.
- 3- ما النقاط التي أكد عليها المؤتمر السوري العام؟
 - 1- رفض كافة القرارات والخطط والمؤامرات الغربية.
 - 2- أكد على الاستقلال التام لسورية الطبيعية ووحدة أراضيها.
- 4- بما تفسر دعوة المؤتمر السوري العام إلى استقلال العراق دون وجود أي حواجز اقتصادية بينه وبين سورية. الوعي القومي والتكاتف العربي.

امتدت الثورة السورية الكبرى إلى دمشق فأعلنها في الغوطة حسن الخراط ومحمد الأشمر بينما أعلنها في حماة فوزي القاوقجي وفي دير الزور عائلة عياش الحاج وفي بادية تدمر رمضان شلاش، وفي جبل لبنان زيد الأطرش، وحقق الثوار انتصارات داخل مدينة دمشق، رد عليها المندوب الفرنسي بقصف المدينة، ولم توفر آلة الحرب الفرنسية من مدفعية وطائرات بشراً ولا حجراً ولا شجراً، حتى تحولت المدينة إلى "كومة حطب" كما وصفها الصحفية الفرنسية اليس بولو التي كانت موجودة في دمشق في أثناء قصفها قائلة: "تظهر دمشق من قمم هذه الجبال، وكأنها كومة حطب مشتعلة، الخراب يعم كل أرجاء المدينة".

بعد المقاومة المسلحة تحول السوريين إلى النضال السياسي مفاوضات وأحزاب وصحف ووضع دستور 115 مادة لم يعترف بسلطة الانتداب أضافت فرنسا المادة 116 عطل الدستور وأغلقت جمعي المحال التجارية وامتنع الطلاب عن الذهاب إلى المدارس ولحق السكان جوع وأذى أصحاب البيوت المستأجرين من دفع الأجرة وتجهيز معونات.

- 1- ضع عنواناً للنص: الثورة السورية الكبرى.
- 2- فسر امتداد الثورة إلى كل المدن السورية. الروح الوطنية والثورية لدى السوريين لنيل الحرية والاستقلال.
- 3- فسر قصف الفرنسيين لمدينة دمشق. دليل على وحشية وهمجية المستعمر الفرنسي الحاقق.
- 4- أعط من النص حقيقة ورأي؟
- 5- ما الدليل على وطنية الثوار
- 6- ما أشكال النضال السياسي.
- 7- فسر رفض المندوب الفرنسي مسودة الدستور؟
- 8- ما رأيك بإضافة فرنسا المادة 116 للدستور.
- 9- أعط أدلة على التكافل الاجتماعي.

تقول الرائدة قمر الكيلاني عن نفسها:

" ولدت في دمشق عام 1928م درست فيها ودخلت جامعتها التي تخرجت منها حاصلة على إجازة في اللغة العربية، ثم دبلوم التربية عام 1954، اشتغلت بالتدريس، وساهمت في تأسيس اتحاد كتاب العرب، نشرت عدداً من الدراسات الأدبية وبعضاً من القصص نالت قصتي "دمية العيد" جائزة أفضل قصة قصيرة في مسابقة هيئة الإذاعة البريطانية BBC كنت عضواً في اللجنة المركزية لمحور الأمية".

- ما الفكرة الرئيسية للنص. أعمال قمر كيلاني
- ما العلاقة بين ممارسة المرأة لدورها وتطوير المجتمع.
- علاقة مترابطة متبادلة أسهمت في بناء جيل وتطوير المجتمع من خلال دورها في جميع المجالات.
- ما الدليل على إنجازات قمر الكيلاني؟

بعد الحرب العالمية الثانية سعت الدول الغربية لفرض سيطرتها على المنطقة العربية بأسلوب غير مباشر خوفاً من قيام وحدة عربية، ولحماية مصالح الكيان الصهيوني فسعت لفرض الأحلاف السياسية والاقتصادية كان أخطرها حلف بغداد عام 1955 لكن وعي السوريين وتبهم لخطورة الأحلاف العسكرية ومشاريع الاحتلال وجدوا في الوحدة مع مصر حلاً للمشكلات ووسيلة للتصدي للاعتداءات فقامت الجمهورية العربية المتحدة عام 1958م وانتخب جمال عبد الناصر رئيساً لها وكان من إنجازاتها تأميم الشركات والمصانع وتوزيع الأراضي على الفلاحين.

- 1- ضع عنواناً للنص؟ إنجازات الجمهورية العربية المتحدة.

تولى رئاسة الجمهورية العربية السورية الدكتور بشار الأسد بعد استفتاء شعبي عام 2000م شهد عهده ثباتاً راسخاً في التمسك باسترجاع الأراضي العربية المحتلة والجولان السوري المحتل، ومواقف سورية من القضايا العربية مع توطيد العلاقات الدولية في الوقت نفسه بدأت بوادر حركة انفتاح كبير لاستخدام التقانة والتكنولوجيا، مع ارتفاع متوسط دخل الفرد، وقيام مشاريع اقتصادية كبيرة، وظهور صحف جديدة، وتراجع في نسبة البطالة. وعندما تعرضت سورية لضغوط خارجية عام 2011م أثبت الشعب العربي السوري وعيه وتماسكه، من خلال المحافظة على استمرار عمل مؤسسات الدولة واستقرارها والتف الجميع حول شخصية القائد لتجاوز هذه الأزمة كما اعتاد السوريون في تاريخهم الطويل.

- صف الإنجازات التي حصلت في سورية بعد تولي الدكتور بشار الأسد الحكم من الناحية:

الاجتماعية	الاقتصادية	الثقافية	السياسية
1- تراجع نسبة البطالة	1- ارتفاع متوسط دخل الفرد. 2- قيام مشاريع اقتصادية كبيرة.	1- بدأت حركة انفتاح كبير لاستخدام التقانة والتكنولوجيا. 2- ظهور صحف جديدة.	1- التمسك باسترجاع الأراضي والجولان المحتل. 2- التمسك بموقف سورية من القضايا العربية. 3- توطيد العلاقات الدولية.

- ما الدليل على وعي الشعب العربي السوري للضغوط الخارجية التي تعرض لها عام 2011؟
أثبت وعيه وتماسكه من خلال المحافظة على استمرار عمل مؤسسات الدولة واستقرارها والتف الجميع حول شخصية القائد لتجاوز هذه الأزمة كما اعتاد السوريون في تاريخهم الطويل.
- ما فكرة النص؟
- استخرج حقيقة تاريخية؟

غد الطريق بين دمشق والحجاز الأكثر سلاماً وأماناً، ينطلق من مدينة دمشق التي شاركت أحيائه كافة في مظاهر الاستعداد لتسيير قافلة الحج مع عشرات الآلاف من الصنّاع وأصحاب الخدمات الذين يعيشون على هذه القافلة وتجهيزها من أولى مراحل الحج وحتى الخروج من بوابة الله (بوابة مصر) جنوب مدينة دمشق في حي الميدان، وفي مطلع القرن العشرين تم إنشاء سكة الحجاز الحديدية بين دمشق والمدينة المنورة التي اختصرت المدة الزمنية من أربعين يوماً إلى أربعة أيام فقط. عقد في باريس اتفاق لجر مياه عين الفيحة وأسست جمعية ملاكي المياه وحق انتفاع المياه وتحديد سعر المياه المكعب.

- 1- ضع عنواناً للنص: قافلة الحج الشامي
2- برأيك ما الفائدة الاقتصادية لمرور طريق الحج عبر مدينة دمشق. لأن الكثير من الحجاج يقومون بشراء ما يحتاجونه من ملابس وطعام وحلي وجواهر مما ينشط حركة البيع والشراء خلال التجهيز لهذه الرحلة.
3- ما المستمر وما المتغير في النص. المستمر: رحلة الحج من الشام والمتغير: هو وسيلة النقل
4- استخرج فكرة غير ذات صلة؟
5- ما الدليل على تشكيل جمعية تعاونية؟

تنبه المجتمع في العصور الحديثة لأهمية تراثها وحمائته، فتأسست الجمعية السورية لذواقي الطعام عام 2002، وأصبحت عضواً في الأكاديمية الدولية لذواقي الطعام، هدفها الحفاظ على المطبخ السوري، ووقعت سورية على اتفاقية اليونسكو لصون التراث عام 2003م. ونظراً لما يعانيه عنصر " مسرح خيال الظل" من تراجع في أعداد الممارسين وما يهدده من أخطار كدخول التكنولوجيا الحديثة، فقد تضافرت الجهود الحكومية وغير الحكومية لصونه ونقله إلى الأجيال المستقبلية.

- ضع عنوان للنص. دور الجمعيات في حماية التراث.
- ما أهمية التراث. يعكس هوية البلد الثقافية للعالم.
- استخرج من النص تراث مادي وتراث غير مادي. تراث مادي: المطبخ السورية. تراث لامادي: مسرح خيال الظل.
- ما الدليل على صون التراث. إدراجه على قوائم التراث العالمي وحمائته.

كتب المؤرخ محمد كرد علي: بلغ عدد المطابع في الشام 80 مطبعة طبقت قصص وأشعار ودواوين وقليل من كتب العرب التي لا يزال الألوفا منها محفوظاً في خزانتنا وخزائن الغرب.

- ما الفكرة الرئيسية للنص. أهمية الطباعة.
- ما الدليل على إنجازات العرب في بلاد الشام في مجال الطباعة؟
- ما الصفات التي يجب أن يتمتع بها الصحفي لمزاولة العمل في الصحافة؟
- ما أهمية دخول المطابع إلى سورية.

تعرضت آثارنا السورية لبعض من هذه المخاطر البشرية خلال (2011 - 2019) لكن توقيع الجمهورية العربية السورية على اتفاقية عام 1970م واتفاقية (UNIDROIT) عام 1995م لضرورة التصدي للإتجار غير الشرعي بالآثار والعمل على استردادها. فكان معرض (كنوز سورية مستردة) عام 2018م ثمرة جهود المديرية العامة للآثار والمتاحف على مدى السنوات الماضية بالشراكة مع مختلف الجهات والمنظمات المعنية بالتراث الأثري وسواعد أبطال الجيش العربي السوري إضافة إلى دور المنظمات الدولية الراعية للتراث لاسترداد الآثار السورية، تضمن قطعاً أثرية تعود للعصور الإسلامية والكلاسيكية وآثار الشرق القديم وآثار ما قبل التاريخ.

- ما المشكلة وما الحلول؟
- ما الحقائق في النص؟
- استخرج من النص فكرة ذات صلة.

شهد القرن التاسع عشر حركة ثقافية وعلمية قامت بها البعثات التبشيرية لنشر أفكارها مما أثار المنقذين العرب على تأسيس مجموعة من الجمعيات العلمية والأدبية والإصلاحية أبرزها الجمعية السورية في بيروت 1874م، هدفها تنشيط أسباب العلوم ونشر أفن، واقتنت مكتبة قيمة تحتوي على مخطوطات ثمينة ومطبوعات نفيسة، ألقت في جلساتها محاضرات منها (تعليم النساء) وتبعها المجمع العلمي الشرقي الذي أنشأ للبحث في العلم والصناعة وضمت نخبة من الأدباء الوطنيين، حيث كانت بلاد الشام موطناً ليقظة فكرية وليدة تعمل على إصلاح المجتمع وتسعى إلى رفعة الأدب العربي، واستعادة ما كان عليه من قوة وازدهار، حمل لواء النهضة الشيخ طاهر الجزائري وأديب إسحاق ومحمد كرد علي.. الذين دعوا إلى الإصلاح والتجديد والارتباط الوثيق بالتراث العربي، مما أدى إلى انتشار الأفكار القومية كرابط جديد بين المواطنين، وإحياء مفهوم العرب والعروبة.
أسس الشيخ طاهر الجزائري مع بعض العلماء في دمشق جمعية المقاصد الخيرية التي عملت على توعية الناس وبث حب العلم بين الشباب، وترميم وتجهيز المدارس وملحقات بعض الجوامع والتكايا، فجرى في بضعة أشهر افتتاح نحو تسع مدارس في دمشق اثنتين منها للإناث.

- 1- ما الفكرة الرئيسية للنص؟
2- استخرج من النص حقيقة تاريخية؟
3- ما سبب ونتيجة البعثات التبشيرية؟
4- ما الدليل على تأسيس جمعيات علمية وأدبية؟
5- ما الدليل على العمل الجماعي.

6- ما الأفكار الإصلاحية في النص.

7- ما أهداف جمعية المقاصد الخيرية؟

ظهرت القصة كفن أدبي في بداية القرن العشرين. كان الأديب عبد السلام العجيلي يلجأ إلى الشكل القصصي في انتقاداتها اللاذعة للمجتمع ومعالجة همومه والتعبير عن مشاعر الأمة. تعد كتاباته في مجال الأدبي أغنى وأهم الروايات في تاريخ الأدب العربي، ترجمت معظم أعماله إلى اللغات الإنكليزية - الفرنسية - الإيطالية - الإسبانية - الروسية. أشهر أعماله رواية (قلوب على الأسلاك) وهي قصة سنين مضطربة عصفت بالبلاد في أثناء الاحتلال الفرنسي.

- ما الفكرة الرئيسية للنص. أحد رواد القصة عبد السلام العجيلي

- لماذا لجأ العجيلي إلى الأسلوب القصصي في معظم رواياته. للتعبير عن مشاعر الأمة وهوها.

- ما دلالة عالمية الأديب عبد السلام العجيلي. ترجمة قصصه إلى عدة لغات.

تعد النصب التذكارية من أهم معالم المدن لأن لها تاريخ حضاري تدفع من يراها للتساؤل عن سبب وجودها؟ فهي تزين المدن بجمالها من جهة وبرمزيتها ودلالاتها التعبيرية من جهة أخرى، تغير في نفوس الناس الذكريات لتخليد شخصية أو حادثة أو إحياء الماضي العريق من أبرز النصب في دمشق نصب معرض دمشق الدولي في ساحة الأمويين.

- ما الغاية من تشييد النصب التذكارية. لها دور حضاري - تزيين المدن وتخليد الذكريات والماضي العريق للدول.

تقيم هيئة التميز والإبداع بالتعاون مع وزارة التربية السورية مسابقة في العلوم الأساسية (الرياضيات والفيزياء والكيمياء والمعلوماتية وعلم الأحياء) لطلاب المرحلة الثانوية، للكشف عن الطلاب المتميزين في كل المحافظات من خلال الأولمبياد العلمي السوري وتمثيل وطنهم في المحافل العلمية الدولية، والتي تهدف إلى تقوية المهارات وخلق جيل مبدع من الشباب العربي السوري.


- ما دلالة اهتمام الدولة بالسوريين المتميزين؟

- ما فكرة النص الرئيسية؟

- استخرج من النص حقيقة تاريخية؟

الخط الزمني:

اقرأ الخط الزمني الآتي، ثم أجب: (50 درجة)

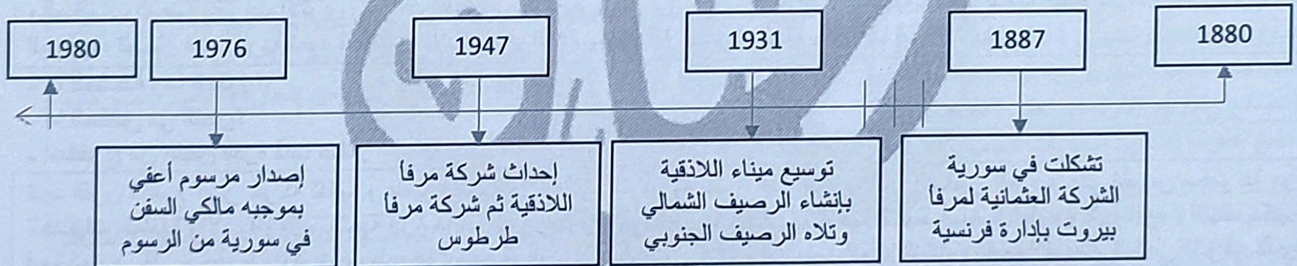


1- ضع عنوان للخط الزمني؟ تطور المعارض في سورية.

2- حدد الوحدة الزمنية التي قسم لها الخط عقود

3- ما دلالة إقامة المعارض المحلية والدولية في سورية؟ موقعها الجغرافي على طريق الحرير - تطور الصناعة السورية.

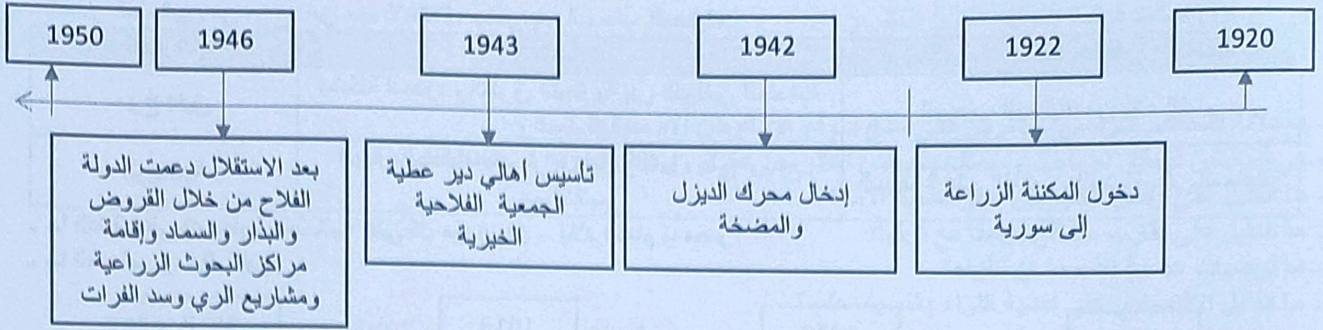
4- ما المستمر وما هو المتغير؟



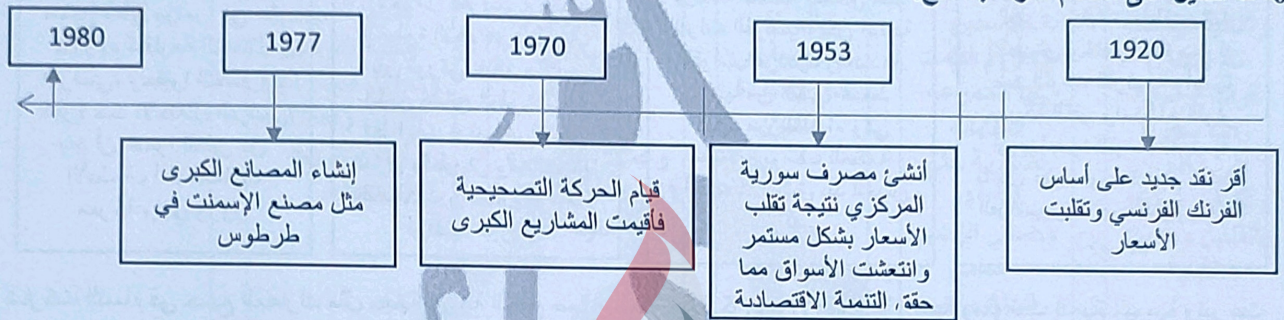
1- ضع عنواناً مناسباً للجدول الزمني؟ تطور المرفأ في سورية.

2- تشكلت الشركة العثمانية في القرن: (السابع عشر - الثامن عشر - التاسع عشر - العشرون)

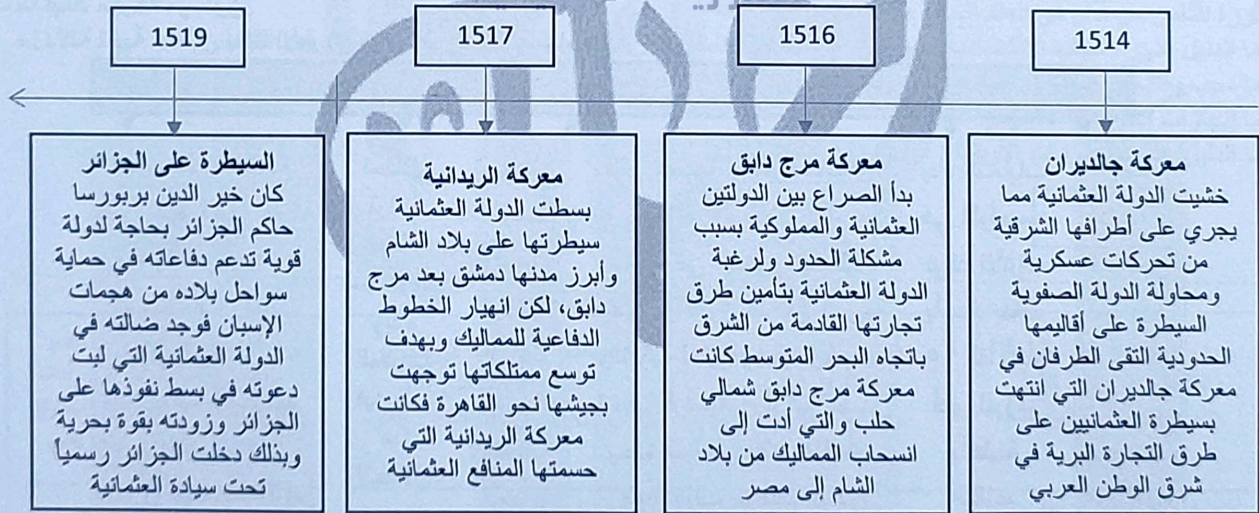
3- تم إحداء شركة مرفأ اللاذقية في العقد: (الرابع - الخامس - السادس - السابع)



- 1- ضع عنواناً مناسباً للجدول الزمني. تطور الزراعة في سورية.
- 2- تم تأسيس الجمعية الخيرية الفلاحية في دير عطية في العقد. (الثالث - الرابع - الخامس - السادس)
- 3- دخلت المكننة الزراعية إلى سورية في القرن: (الثامن عشر - التاسع عشر - العشرون - الواحد والعشرون)
- 4- ما الدليل على العمل الجماعي في الجدول الزمني.
- 5- ما المستمر وما المتغير.
- 6- ما الدليل على اهتمام الدولة بالفلاح.



- 1- ضع عنواناً مناسباً للنص: تطور الاقتصاد السوري بعد الاستقلال
- 2- قسم الجدول الزمني إلى: أعوام - عقود - قرون - ألفية
- 3- حصلت سورية على استقلالها في القرن: 18 - 19 - 20 - 21
- 4- قامت الحركة التصحيحية في العقد: السادس - السابع - الثامن - التاسع
- 5- ما الغاية من إصدار فرنسا عملة ورقية؟
- 6- ما المستمر وما المتغير بالنسبة للنقود؟
- 7- ما الدليل على التنمية الاقتصادية لسورية؟

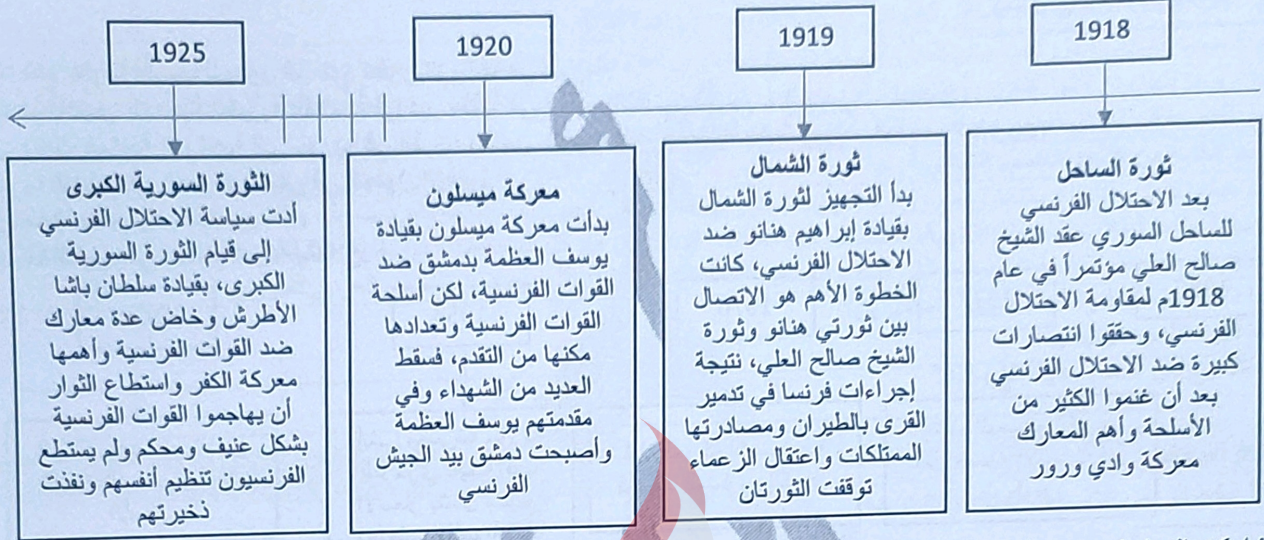


- ضع عنوان للجدول الزمني:
- اختر الإجابة الصحيحة؟ توسع الدولة العثمانية
- أ- قسم الجدول الزمني السابق إلى: حقبة - عقود - قرون - أعوام
- ب- دخلت الجزائر تحت سيطرة العثمانيين في القرن: 14 - 15 - 16 - 17م
- صنف وفق الجدول الآتي الأسباب التي دفعت العثمانيين للتوسع شرقاً؟
- وفق مبدأ السبب والنتيجة، أوجد العلاقة بين معركة مرج دابق والريدانية؟

انتصار العثمانيين في مرج دابق مهد لاحتلال مصر بعد انسحاب المماليك.

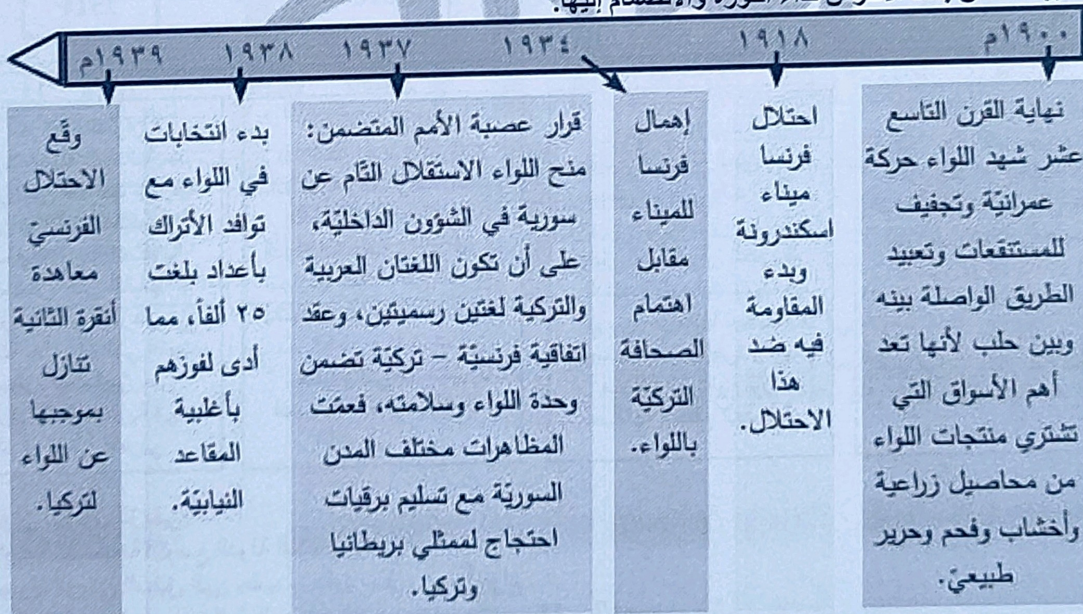
النتيجة	السبب	المعركة
انسحاب المماليك من بلاد الشام.	مشكلة الحدود والطرق التجارية بين الدولتين العثمانية والمملوكية	مرج دابق
السيطرة على القاهرة والقضاء على المماليك.	انهيار المماليك بعد مرج دابق والعمل على توسيع ممتلكاتهم.	الريدانية

- ما الدليل على السيطرة العثمانية على كل من إيران - بلاد الشام - مصر؟
- ما المستمر وما المتغير؟



وشاركت النساء في جميع المعارك مثل حيازة زوجة الشيخ صالح العلي وشاركن في الأعمال الزراعية ومقومات الحياة اليومية وتبرعت زكية هنانو بثروتها لصالح الثورة.

- 1- ضع عنواناً للجدول الزمني؟ النضال ضد الاحتلال الفرنسي
- 3- الوحدة الزمنية التي قسم لها الجدول الزمني: أعوام - قرن - ألفية - عصر.
- 4- كان الثورة السورية الكبرى في العقد: الرابع - الثالث - الثاني - الخامس.
- 5- ما دلالة عقد الشيخ صالح العلي مؤتمراً في قريته.
- 6- قارن بين ثورتي الساحل والشمال.
- 7- ما الدليل على مشاركة النساء في المعارك؟
- 8- ما أبعاد معركة ميسلون.
- 9- ما دلالة تلبية سلطان باشا الأطرش نداء الثورة والانضمام إليها.



- ضع عنواناً مناسباً للخط الزمني. سلخ لواء اسكندرونة عن الوطن الأم سورية.
- ما الوحدة الزمنية التي قسم لها الجدول الزمني. قسم إلى عقود

- في أي قرن احتلت فرنسا اللواء. القرن العشرين
- في أي عقد صدور قرار عصبة الأمم. العقد الرابع

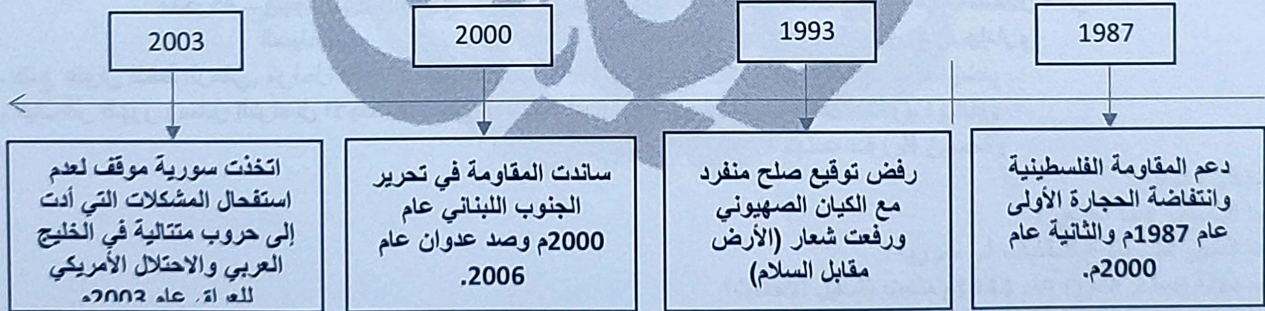
- ما دلالة التحالف الفرنسي - التركي على سلخ اللواء عن الوطن الأم سورية.
سعي المحتلين لتحقيق أطماعهم ومصالحهم بغض النظر عن حقوق و رغبة الشعوب في تحديد مصيرها.
- ما الدليل على رفض السوريين قرار عصبة الأمم؟
- ما الدليل على تقارب مصالح فرنسا مع تركيا؟
- ما توصيات عصبة الأمم بشأن اللواء؟
- ما الدليل الاقتصادي على أهمية اللواء بالنسبة لحلب؟



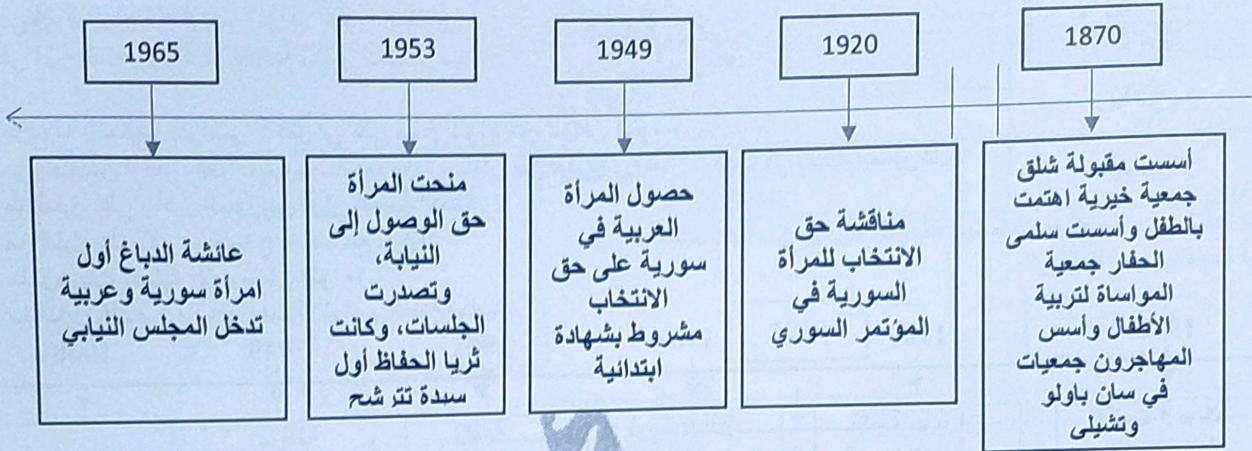
- أكمل الجدول الآتي وفق مبدأ السبب والنتيجة.

الحدث	السبب	النتيجة
ثورة الثامن من آذار	رداً على القوى الرجعية والانفصالية	العمل على بناء قاعدة اقتصادية متينة
نكسة حزيران	قيام الكيان الصهيوني باحتلال أراضي جديدة	احتلال أراضي جديدة وتحويل مسار نهر الأردن

- الوحدة الزمنية التي قسم لها الجدول الزمني: عقود
- ثورة الثامن من آذار في العقد السابع من القرن العشرين
- ما الدليل على الأسباب الاقتصادية لعدوان عام 1967؟ إقامة الكيان الصهيوني مشاريع اقتصادية لتسهيل التوطين.
- ما سبب ونتيجة عدوان فرنسا على سورية عام 1945؟
- ما إنجازات الحركة التصحيحية؟
- ما الدليل على اضطرابات الأوضاع في سورية عام 1948؟



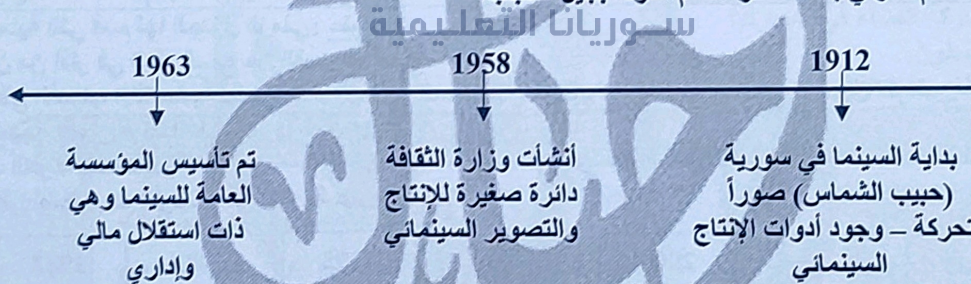
1- ضع عنوان للجدول الزمني؟ دور سورية في القضايا الوطنية ودعم المقاومة.
2- اختر الإجابة الصحيحة: قسم الجدول الزمني إلى قرون - عقود - أعوام.
3- فسر دعم سورية لأشقائها العرب في حروبها ضد الاحتلال؟ انطلاقاً من واجبها القومي تجاه الأخطار التي تواجه الأشقاء العرب.



- ضع عنواناً للجدول الزمني؟ دور المرأة في المجتمع السوري.
- ما الحقوق التي حصلت عليها المرأة السورية؟ حق الانتخاب والترشح للمجلس النيابي وأصبحت عضو فيه.
- علام يدل إقرار شرط الحصول على الشهادة الابتدائية للترشح للانتخابات؟ التأكيد على أهمية تعليم المرأة والوصول إلى جيل متقف وواعي لبناء سورية.
- الوحدة الزمنية التي قسم لها الجدول الزمني: عقود
- ما الدليل على التكافل الإنساني عند السوريين داخل وخارج سورية؟



- 11- ضع عنوان للخط الزمني. تطور الأنشطة الشبابية في سورية.
- 2- حدد الوحدة الزمنية التي قسم لها الخط. عقود
- 3- ما دلالة الاعتراف بالكشافة السورية؟ لدوره في بناء جيل من الشباب الواعي للبيئة والمعالم الأثرية.
- 4- ما الدليل على الاهتمام الدولي بالكشافة واهتمام الدولة بجيل الشباب؟



- 1- ضع عنوان للخط الزمني. مراحل تطور السينما في سورية.
- 2- كيف أثر ظهور وسائل التواصل الاجتماعي على السينما؟ أدت إلى تراجع دور السينما.

1935م ← 1954م

الثورة الجزائرية الكبرى

بدأ الاحتلال الفرنسي للجزائر عام 1830م، وقامت عدة ثورات ضد سياسة فرنسا الاستبدادية، وفرضها اللغة الفرنسية ومحاربة اللغة العربية، ومصادرة الأراضي وتوزيعها على المستوطنين الفرنسيين، أبرزها ثورة الأمير عبد القادر الجزائري، لكن الاحتلال الفرنسي استمر بتجاهل مطالب الشعب في الحرية والاستقلال، فكانت الثورة الجزائرية الكبرى عام 1954م، التي تلقّت دعماً عربياً من سورية ومصر، فاضطرت فرنسا للتفاوض مع الجزائريين بسبب ضغط الرأي العام الداخلي والأزمات الاقتصادية والمالية والخسائر التي تكبدتها، فكان استقلال الجزائر بعد توقيع اتفاقية إيفيان عام 1962م، وقد لقيت بـ «بلد المليون شهيد».

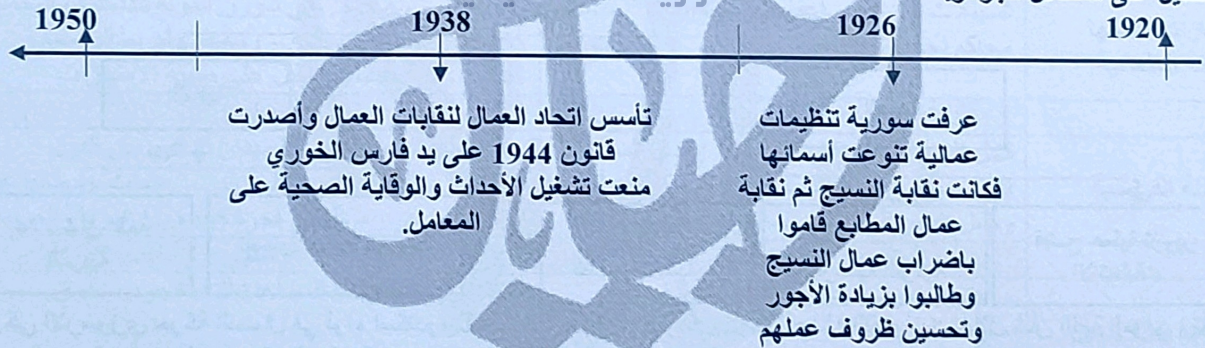
الثورة الفلسطينية الكبرى

فرضت بريطانيا انتدابها على أرض فلسطين وعملت على تسهيل تطبيق وعد بلفور، فدعت تزايد الهجرة اليهودية بشكل كبير، وتأسيس الوكالة اليهودية، واحتلال الأراضي، وفرض اللغة العبرية لغة رسمية ومحاربة اللغة العربية، فانطلقت الثورات ضد سياستها، أبرزها الثورة الفلسطينية الكبرى التي بدأت على يد الشيخ عز الدين القسام عام 1935م، وبعد استشهاده قاد فخري عبد الهادي احتجاجاً نتج عنه استمرار الإضراب والثورة إلى أن اضطرت الاحتلال البريطاني إلى تبديل سياسته بإرسال لجنة «بييل» عام 1937م التي أعلنت تقسيم فلسطين لأول مرة بين العرب واليهود الصهاينة.

- ما المشكلة التي يعرضها الجدول الزمني وما الحل الذي قام به الفلسطينيون والجزائريين. الاحتلال / المقاومة.
- فسر استمرار تواجد الكيان الصهيوني إلى يومنا هذا؟ الدعم الغربي الكبير له / وضعف الوطن العربي وتجزئته.
- ما أوجه الشب والخلاف بين الثورة الفلسطينية الكبرى والثورة الجزائرية الكبرى؟

أوجه الشبه	أوجه الخلاف
- كلاهما قام بسبب سياسة الاحتلال.	- السيطرة على أراضي الفلسطينيين ومنحها لليهود.
- كلاهما قام بسبب محاربة اللغة العربية وفرض لغة عليه.	- السيطرة على أراضي الجزائريين ومنحها للفرنسيين.
- كلاهما كبد العدو خسائر كبيرة.	- نجاح ثورة الجزائر.
- كلاهما أجبر العدو على التفاوض.	- حصول الجزائريين على الاستقلال.
	- فشل ثورة فلسطين واستمرار وجود الكيان الصهيوني.

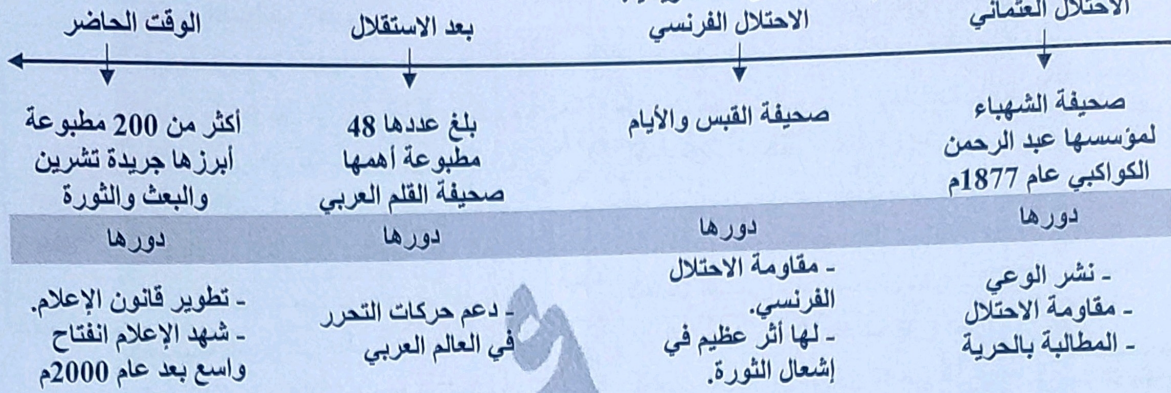
- ما الدليل على تغير سياسة بريطانية في فلسطين؟
- ما الدليل على استقلال الجزائر.



- ما فكرة النص؟
- ما المستمر وما المتغير؟
- ما الدليل على تنوع النقابات في سورية؟
- ما دلالة إصدار قانون عام 1944م منعت تشغيل الأحداث؟

خريطة المفاهيم:

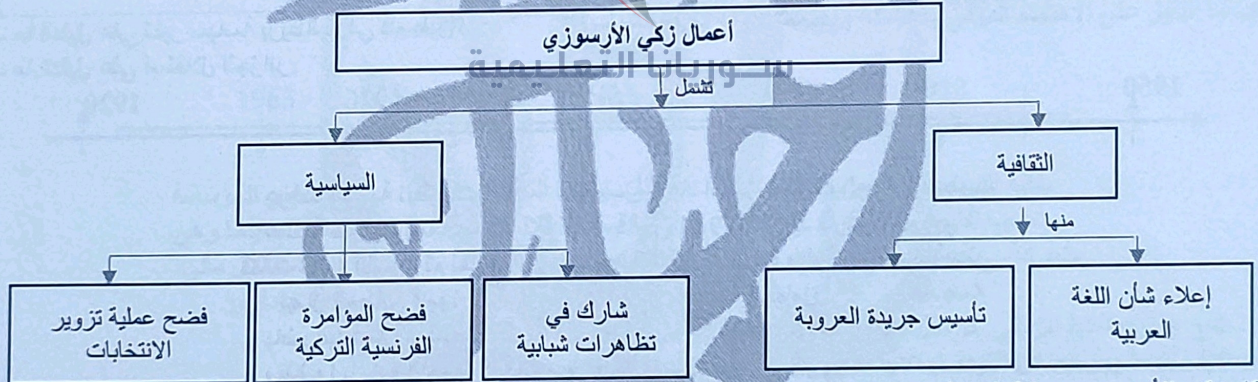
- أعد تنظيم معلومات خريطة المفاهيم الآتية لتشكل نصاً تاريخياً:
الاحتلال العثماني



أعد تنظيم المعلومات الواردة في خريطة المفاهيم الآتية، لتشكل نصاً تاريخياً:



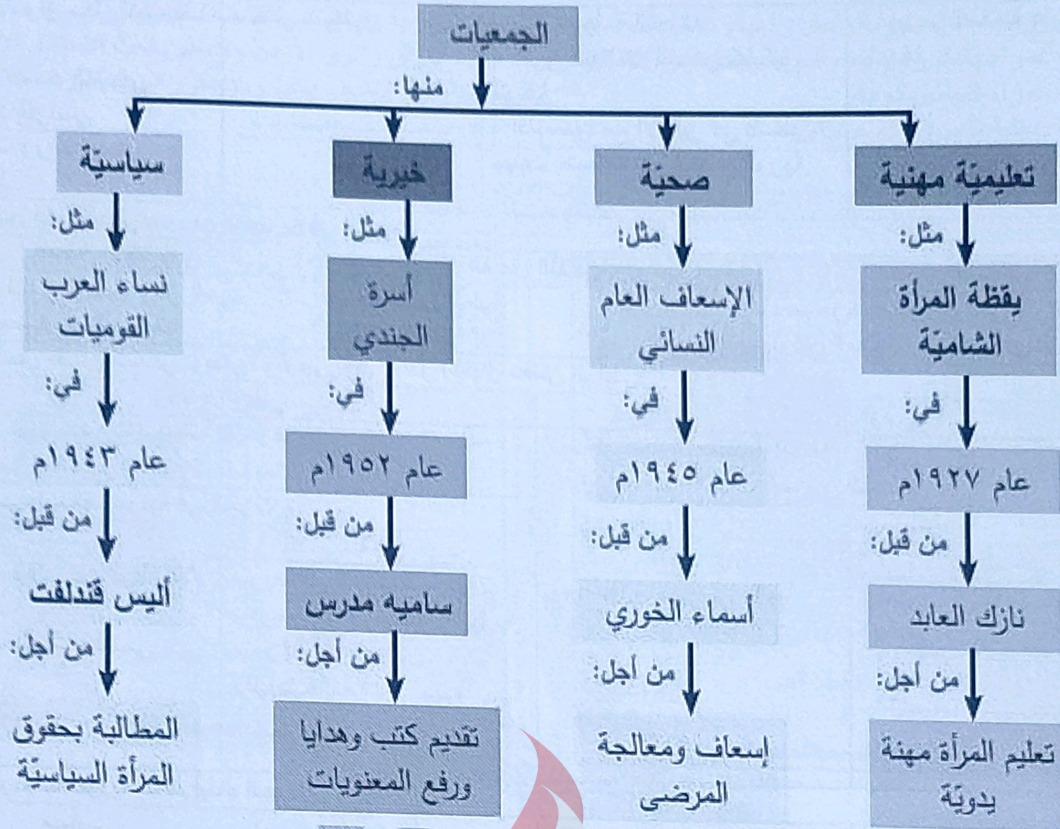
أعد تنظيم المعلومات الواردة في خريطة المفاهيم الآتية، لتشكل نصاً تاريخياً:



قاد زكي الأرسوزي حركة النضال في لواء اسكندرونة ضد الفرنسيين والأترك وتجلت أعماله الثقافية من خلال شأن اللغة العربي وتأسيسه لجريدة العربية. بينما تجلت أعماله السياسية من خلال مشاركته في التظاهرات الشبابية، وفضح المؤامرة الفرنسية والتركية، وعملية تزوير نتائج الانتخابات في اللواء.

حول أفكار النص إلى خارطة مفاهيم.

تميزت نرك العابد بنشاطها السياسي والاجتماعي ضد الاحتلال الفرنسي وكان دورها السياسي من خلال إنشاء مشفى ميداني لعلاج الجرحى، وكذلك مساعدتها لثوار الغوطة كونها خبيرة بجغرافية المنطقة، وأيضاً شاركت في مؤتمر في القاهرة لدعم القضية الفلسطينية. بينما على الصعيد الاجتماعي برز نشاطها من خلال اهتمامها بعلم التمريض والإسعاف، وأيضاً من خلال تأسيسها لمدرسة بنات الشهداء.



- حول الخريطة إلى نص.

صنف؟

- صنف في جدول إيجابيات وسلبيات ما يلي؟

سلبي على الوطن العربي	إيجابي لدول أوروبا	امتيازات منحها الدولة العثمانية
أصبحت وسيلة لتدخل في شؤون الدولة الداخلية والسيطرة على مواردها الاقتصادية - وسمحت لبريطانيا حماية الصهاينة في فلسطين. دليل على سلبية الامتيازات	تسهيلات تجارية - إعفاء من الضرائب - تشكيل محاكم تجارية خاصة.	
سلبي	إيجابي	الحملة الفرنسية
- أصبحت المنطقة العربية ميدان لتنافس بين الدول الأوروبية - احتلال فرنسا الجزائر. - هيمنت بريطانيا على الخليج العربي. - ظهور فجوة كبيرة بين أوروبا والعرب.	فشل الحملة في تحقيق أهدافها - إدخال المطابع إلى مصر - وضع كتاب وصف مصر بين أهمية وصل البحر المتوسط بالأحمر.	
سلبي	إيجابي	معاهدة 1936 بين سورية وفرنسا
- تقدم سورية لفرنسا المساعدة أثناء الحرب بطرق المواصلات. - مدة المعاهدة 25 عام. - بقاء قاعدتين جويتين لفرنسا (المزة - النيرب).	- اعتراف فرنسا بسورية دولة مستقلة. - تهيئة الظروف لقبولها في عصبة الأمم. - تنشأ بين الدولتين علاقة صداقة.	

- صنف أعمال غرفة التجارة في دمشق من حيث:

خدمي	تجاري
- نفذت مشاريع البنى التحتية. - لمشروع جر مياه عين الفيحة إلى دمشق.	- مراقبة السياسة الجمركية والضريبية التي اتبعتها الاحتلال. - نشر أسعار البضائع والعملات في الجرائد وكل ما يهم التجار. - تمثيل المؤسسات التجارية والصناعة والدفاع عنها.

- صنف سياسة فرنسا في سورية من الناحية:

ثقافي	سياسي	اجتماعي	اقتصادي
- فرضت ثقافتها جعل اللغة الفرنسية لغة رسمية كالعربية. - درست جغرافيتها وتاريخها.	- انهاء الحكم العربي في دمشق. - أقامت إدارة فرنسية. - الاعتماد على موظفين فرنسيين.	- تقوية النظام الإقطاعي. - منح الأراضي لكبار الملاكين.	- عرقلة التجارة الداخلية - احتكار البضائع - فرض رأس المال الأجنبي

- جعل الأسواق مكان لتصرف بضائعها. - ربط الاقتصاد السوري بالاقتصاد الفرنسي. - احتكرت زراعة بعض المحاصيل.	- فقر السكان. - طبقت سياسة التجزئة. - "فرق تسد" تنازلت عن كيليكيا لتركيا. - أقام حدود مع الإنكليز في فلسطين بهدف إضعاف الروابط مع سورية.	- أجبرت الطلاب على إنشاء نشيدها.
---	---	----------------------------------

- صنف منجزات الوحدة السورية المصرية في الجدول:

المجال الاقتصادي	المجال الثقافي	المجال السياسي
- إصدار قانون الإصلاح الزراعي. - تأميم المصانع والمصارف.	- الاهتمام بالتعليم.	- دعم حركات التحرر العربية والعالمية. - توثيق العلاقات مع المعسكر الاشتراكي.

- صنف أعمال عدنان المالكي، وطني، وقومي، (أو) علل اغتيال عدنان المالكي.

الكفاح الوطني	الكفاح القومي
- حاولت القوى الغربية استمالة لكنه رفض. - وقف ضد المشاريع الغربية كحفل بغداد.	- خاض معارك فلسطين 1948. - المساهمة في التقارب السوري المصري.

- صنف إجراءات الصهيونية في الجولان؟

سياسي	ثقافي	اقتصادي	اجتماعي
- عزل الجولان عن الوطن الأم سورية. - إضعاف الانتماء القومي العربي. - فرض الهوية على المواطنين العرب.	- ربط المؤسسات التعليمية بها. - فرض اللغة والمناهج العبرية. - سرقة آثار الجولان وتزويرها.	- مصادرة الأراضي والمياه.	- تفكيك الترابط الاجتماعي بين السكان.

- صنف إجراءات سورية لدعم أبناء الجولان.

سياسي	اقتصادي	اجتماعي	ثقافي
- أدانت إجراءات الصهاينة. - رفض الاحتلال الصهيوني. - رفع شعار الأرض مقابل السلام.	- تسويق منتجاتهم الزراعية (التفاح).	- منح الهوية السورية لأبناء الجولان.	- قبولهم في الجامعات السورية.

- صنف في جدول وظائف التكية السليمانية.

اجتماعية	اقتصادية
- جامع ومدرسة وتكية صغرى. - تطبيب المرضى وعلاجهم. - إيواء الغرباء وتقديم جبات الطعام للفقراء. - مأوى للفقراء واليتامى وأبناء السبيل.	- سوق تجاري. - سوق به دكاكين.

- ما دلالة بناء التكية السليمانية بشكل هندسي؟

- صنف المخاطر التي تتعرض لها الآثار؟

طبيعي	بشري
- الزلازل - الفيضانات - البراكين - الأعاصير.	- الحروب والنزاعات. - التشويه والتزوير والتخريب. - السرقة والاتجار غير الشرعي.

- الصعوبات التي تعرض لها الفلاح أثناء الاحتلال العثماني:

سياسي	اقتصادي	اجتماعي
- حروب واضطرابات	- صعوبة ربط مناطق الإنتاج بالاستهلاك	- سيطرة النظام الإقطاعي على الأراضي

- صنف التراث المادي وغير المادي

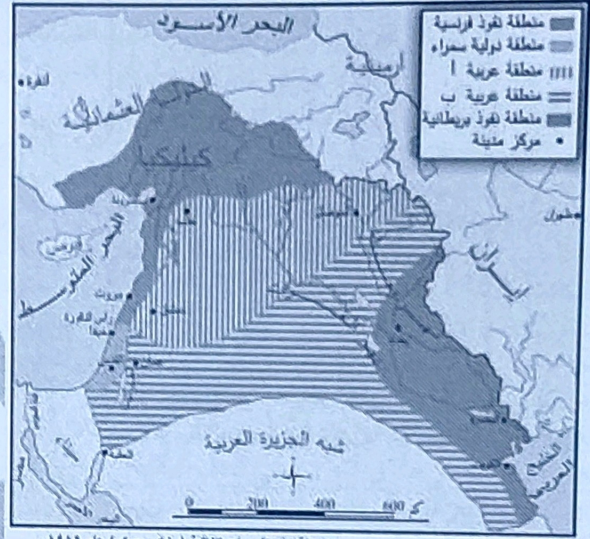
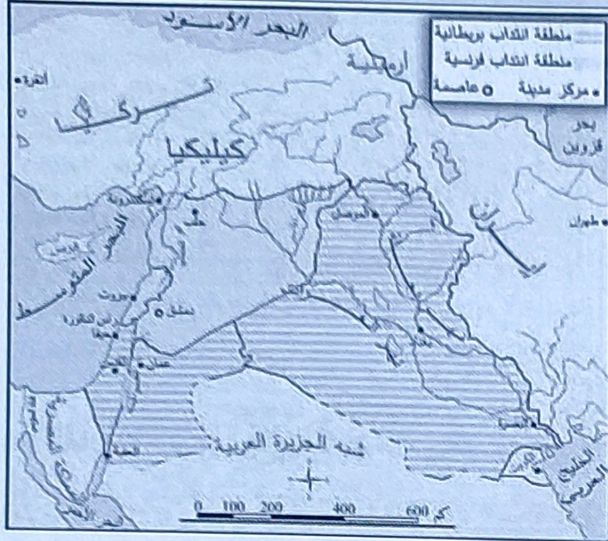
التراث المادي	التراث غير المادي
يضم الجزئيات المادية التي تعبر عن الماضي كالحرف الشعبية (صناعة الخبز) الرقص الشعبي - أدوات العمل - مختلف المأكولات والزي واللباس الشعبي.	يضم التراث المتوارث جيل بعد جيل، نقل عن طريق الحفظ والذاكرة، فهو أحد مصادر الإبداع والتنوع الثقافي الذي يعبر عن هوية الشعوب منه: الأغاني الشعبية، الزغاريد، التاريخ، الأمثال الشعبية، الحكايات، الفوايزر، الأساطير، الأقوال المأثورة، المصطلحات، التعابير.

- قارن بين اتفاقية (سايكس - بيكو) وسان ريمو؟

سايكس بيكو	سان ريمو
------------	----------

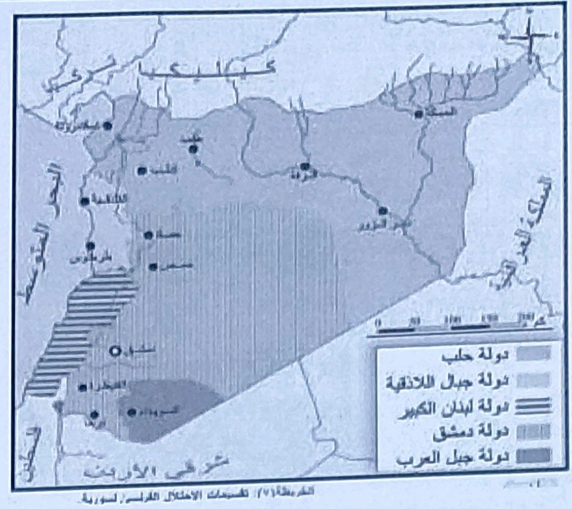
- 1- منطقة زرقاء ساحل سورية ولبنان وكيليكيا تحت النفوذ الفرنسي.
 - 2- منطقة حمراء بغداد والبصرة والكويت تحت النفوذ الإنكليزي.
 - 3- منطقة سمراء فلسطين دولية.
 - 4- منطقة داخلية (أب) دولة عربية.
- 1- سورية ولبنان تحت الاحتلال الفرنسي.
 - 2- العراق وشرق الأردن وفلسطين تحت الاحتلال الإنكليزي.
 - 3- يلتزم الانتداب بتنفيذ وعد بلفور في فلسطين.
 - 4- _____

الخارطة:



الخارطة (3): تقسيمات لثغلة (سايس-بيكو) عام 1916م.

- 1- حول الخارطة إلى نص.
 - 2- استخلص من الخارطة مناطق النفوذ الفرنسي والبريطاني.
 - 3- ما دلالة بقاء العرب في المناطق أ و ب .
 - 4- ما أهمية فلسطين بالنسبة للدول الأوروبية.
- 1- استخلص من الخريطين مقررات مؤتمر سان ريمو و سايس بيكو.
 - 2- لماذا جعلت فلسطين منطقة دولية في سايس بيكو؟



- 1- حول المصور إلى نص تاريخي.
- 2- عطل قيام الثورات السورية.
- 3- ما دلالة قيام الثورات في الساحل والشمال؟

- 1- حول المصور إلى نص تاريخي.
- 2- ما هدف المستعمر من تقسيم سورية إلى دويلات؟
- 3- ما دلالة فصل غورو لبنان عن سورية؟

سوريانا التعليمية