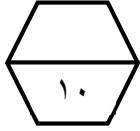


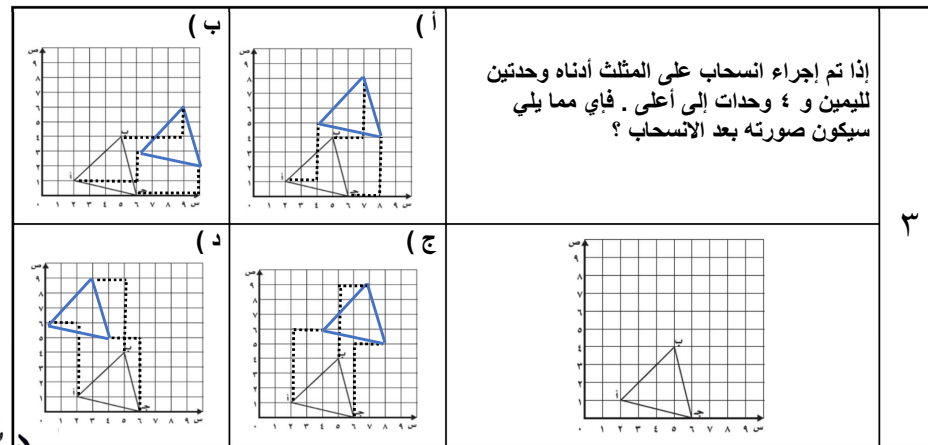
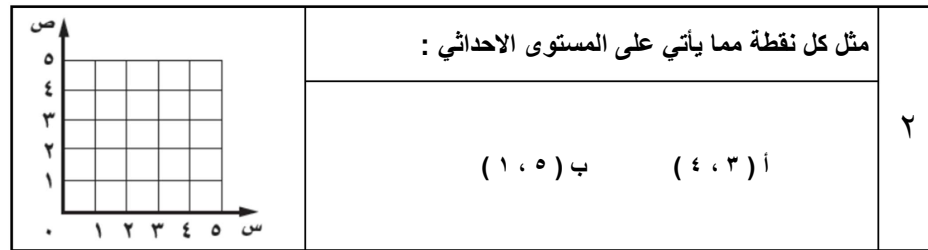
اسم الطالب /

ورقة عمل (الأسبوع الثالث عشر) للصف الخامس الابتدائي الفصل الدراسي الثاني للعام الدراسي ١٤٤٧ هـ



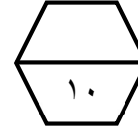
المهارات
الجبر والهندسة : تمثيل الدوال
الانسحاب في المستوى الإحداثي

ضع علامة (\checkmark) أمام العبارة الصحيحة وعلامة (\times) أمام العبارة الخاطئة :	
١	أ عند تمثيل نقطة في المستوى الإحداثي نضع علامة عند النقطة التي يمثلها الزوج المرتب المطلوب تمثيله
ب	الانسحاب هو إزاحة شكل دون تدويره، ولا ينتج عن ذلك تغير في قياساته أو شكله




اسم الطالب /

ورقة عمل (الأسبوع الثالث عشر) للصف الخامس الابتدائي الفصل الدراسي الثاني للعام الدراسي ١٤٤٧ هـ



المهارات
الجبر والهندسة : تمثيل الدوال
الانسحاب في المستوى الإحداثي

ضع علامة (\checkmark) أمام العبارة الصحيحة وعلامة (\times) أمام العبارة الخاطئة :	
١	أ عند تمثيل نقطة في المستوى الإحداثي نضع علامة عند النقطة التي يمثلها الزوج المرتب المطلوب تمثيله
ب	الانسحاب هو إزاحة شكل دون تدويره، ولا ينتج عن ذلك تغير في قياساته أو شكله

