

## الخطة الإجرائية المقترحة لاختبار نافس

### الصف الثالث متوسط







اعداد مشرفات الرياضيات بمكتب التعليم بالشوقية

أ.عواطف السلمي - أ.فاطمة الحربي - د. هناء العمودي

الخطة الاجرائية لاختبارات نافس ( الصف الثالث متوسط )

الحصة: ..... اليوم: ..... التاريخ: ..... الفصل: .....

المهمة الأدائية الداعمة	التطبيق الالكتروني	اجراءات الاتقان	الفصل الدراسي	الوصف	المستوى
		<p>كتاب الطالبة ص ٨٧ ( ١١ )</p> <p>دليل المعلم ص ٢٦ ( ٢ )</p> <p>دليل التقويم ص ٣٥ ( ١٧ )</p> <p>دليل الأنشطة ص ٢٦ ( ٤ )</p>	الأول	يوجد حدود المتابعة الحسابية	المنخفض
		<p>كتاب الطالبة ص ٥٦ ( ١١ )</p> <p>دليل المعلم ص ٥١ ( ١ )</p> <p>دليل التقويم ص ٤٢ ( ٢ )</p> <p>دليل الأنشطة ص ١٢ ( ٤ )</p>	الأول	يحدد ما اذا كانت العلاقة تمثل دالة	دون المتوسط
		<p>كتاب الطالبة ص ٦٢ ( ٣٥ )</p> <p>دليل المعلم ص ٥٦ ( ١ ب )</p> <p>دليل التقويم ص ٣٠ ( ٣ )</p> <p>دليل الأنشطة ص ١٢ ( ٤ )</p>	الأول	١- يفهم مفهوم الدالة	فوق المتوسط
		<p>كتاب الطالبة ص ٨١ ( ١٠ )</p> <p>دليل المعلم ص ٦٩ ( ١ )</p> <p>دليل التقويم ص ٤٥ ( ٢٣ )</p> <p>دليل الأنشطة ص ٢٤ ( ٥ )</p>	الأول	٢- يوجد معدل التغير لدالة ما	
		<p>كتاب الطالبة ص ٩٨ ( ٧ )</p> <p>دليل المعلم ص ٦٥ ( ٣ )</p> <p>دليل التقويم ص ٣٦ ( ١ )</p> <p>دليل الأنشطة ص ٢٠ ( ٢ )</p>	الأول	١- يحل مسائل على الدالة الخطية	متقدم
		<p>كتاب الطالبة ص ١٥٢ ( ٣٦ )</p> <p>دليل المعلم ص ١٣٠ ( ١ )</p> <p>دليل التقويم ص ٧٣ ( ١٥ )</p> <p>دليل الأنشطة ص ٨ ( ٣ )</p>	الأول	٢- يحل المتباينات الخطية في متغير واحد جبريا ومتباينات تتضمن القيمة المطلقة	

الخطة الاجرائية لاختبارات نافس ( الصف الثالث متوسط)

الحصة: ..... اليوم: ..... التاريخ: ..... الفصل: .....

المهمة الأدائية الداعمة	التطبيق الالكتروني	اجراءات الاتقان	الفصل الدراسي	الوصف	المستوى
		كتاب الطالبة ص ١٧ (رقم ١٠) دليل المعلم ص ٩٤ (رقم ٦) دليل التقويم ص ٥٣ (رقم ٢) دليل الأنشطة ص ١٧ (رقم ٧)	الثالث	يوجد القيمة العظمى والصغرى للدالة التربيعية	المنخفض
		كتاب الطالبة ص ١١٧ (رقم ١) دليل المعلم ص ٦٦ (رقم ٣) دليل التقويم ص ٣٠ (رقم ١٠) دليل الأنشطة ص ١٣ (رقم ٥)	الثاني	تحليل كثيرات الحدود	دون المتوسط
		كتاب الطالبة ص ٦١ (رقم ٢٩) دليل المعلم ص ٥٣ (رقم ٥) دليل التقويم ص ٣٠ (رقم ٤) دليل الأنشطة ص ١٠ (رقم ١٥)	الأول	تبسيط العبارات الرياضية وإيجاد قيمها.	فوق المتوسط
		كتاب الطالبة ص ١٧ (رقم ٤) دليل المعلم ص ٩٢ (رقم ٢) دليل التقويم ص ٤٩ (رقم ٣) دليل الأنشطة ص ١٧ (رقم ٥)	الثالث	فهم مفهوم الدالة	
		كتاب الطالبة ص ٢٥ (رقم ٧) دليل المعلم ص ١٠١ (رقم ٥) دليل التقويم ص ٥٥ (رقم ٩) دليل الأنشطة ص ١٢ (رقم ٤)	الثالث	-يحل مسائل على الدالة التربيعية.	متقدم

الخطة الاجرائية لاختبارات نافس ( الصف الثالث متوسط )

الحصة: ..... اليوم: ..... التاريخ: ..... الفصل: .....

المهمة الأدائية الداعمة	التطبيق الالكتروني	اجراءات الاتقان	الفصل الدراسي	الوصف	المستوى
		<p>كتاب الطالبة ص ٦٤ ( ٣ ) دليل المعلم ص ١٣٧ ( ١٥ ) دليل التقويم ص ٧١ ( ٥ ) دليل الأنشطة ص ١٨ ( ١ )</p>	الثالث	يتعرف على نظرية فيثاغورس	المنخفض
		<p>كتاب الطالبة ص ٤٩ ( ٢١ ) دليل المعلم ص ١٢٣ ( ١٠ ) دليل التقويم ص ٧٨ ( ١ ) دليل الأنشطة ص ٦ ( ٤ )</p>	الثالث	يكتب الجذر التربيعي لعدد في أبسط صورة ويوجد قيمتها	دون المتوسط
		<p>كتاب الطالبة ص ٦٤ ( ١٣ ) دليل المعلم ص ١٣٧ ( ١١ ) دليل التقويم ص ٧٦ ( ٩ ) دليل الأنشطة ص ١٨ ( ٦ )</p>	الثالث	يوجد قياسات لمضلعات المجهولة باستخدام نظرية فيثاغورس	
		<p>كتاب الطالبة ص ٦٥ ( ٢٥ ) دليل المعلم ص ١٣٧ ( ١٤ ) دليل التقويم ص ٧٥ ( ١٦ ) دليل الأنشطة ص ٢٠ ( ٤ )</p>	الثالث	يحل مسائل رياضية على نظرية فيثاغورس	
-		<p>كتاب الطالبة ص ٨٢ ( ١٧ ) دليل المعلم ص ١٥٤ ( ١٦ ) دليل التقويم ص ٧٧ ( ٢٢ ) دليل الأنشطة ص ٣٠ ( ٣ )</p>	الثالث	يوجد النسب المثلثية	فوق المتوسط
-		<p>كتاب الطالبة ص ٨٣ ( ٢٩ ) دليل المعلم ص ١٥٤ ( ٢٠ ) دليل التقويم ص ٦٩ ( ٩ ) دليل الأنشطة ص ٣٠ ( ٤ )</p>	الثالث	يوجد قيم الدوال المثلثية باستخدام الآلة الحاسبة	متقدم

الخطة الاجرائية لاختبارات نافس ( الصف الثالث متوسط )



الحصة: ..... اليوم: ..... التاريخ: ..... الفصل: .....

المهمة الأدائية الداعمة	التطبيق الالكتروني	اجراءات الاتقان	الفصل الدراسي	الوصف	المستوى
		كتاب الطالبة ص ١٩٢ (١) دليل المعلم ص ١٦٨ (١) دليل التقويم ص ٨٧ (٢) دليل الأنشطة ص ١٣ (٤)	الثالث	يوجد مقاييس النزعة المركزية	المنخفض
		كتاب الطالبة ص ١٩٥ (٧) دليل المعلم ص ١٧٠ (١١) دليل التقويم ص ٨٧ (٤) دليل الأنشطة ص ١٤ (١)	الثالث	يحسب مقاييس النزعة المركزية	دون المتوسط
		كتاب الطالبة ص ٢١٣ (١) دليل المعلم ص ١٨٦ (١) دليل التقويم ص ٨٨ (٤) دليل الأنشطة ص ٢٢ (١)	الثالث	يوجد احتمال حدث لتجربة معينة	فوق المتوسط
		كتاب الطالبة ص ٢١٨ (٢١) دليل المعلم ص ١٨٨ (٢٦) دليل التقويم ص ٨٨ (٢) دليل الأنشطة ص ٢٤ (٢)	الثالث	يحل مسائل علي الإحصاء والاحتمالات	متقدم

الخطة الاجرائية لاختبارات نافس ( الصف الثالث متوسط )

الحصة: ..... اليوم: ..... التاريخ: ..... الفصل: .....

المهمة الأدائية الداعمة	التطبيق الالكتروني	اجراءات الاتقان	الفصل الدراسي	الوصف	المستوى
		كتاب الطالبة ص ١٥ (رقم ١) دليل المعلم ص ١٣ (رقم ١١) دليل التقويم ص ١١ (رقم ٥) دليل الأنشطة ص ٦ (رقم ١٠)	الأول	يحل معادلة في متغير واحد	المنخفض
		كتاب الطالبة ص ١٥ (رقم ٨) دليل المعلم ص ١٤ (رقم ١٩) دليل التقويم ص ٩٣ (رقم ١) دليل الأنشطة ص ٦ (رقم ١)	الثاني	يتعرف على نظام معادلتين خطيتين متسق وغير متسق ومستقل وغير مستقل	
		كتاب الطالبة ص ٢٣ (رقم ١) دليل المعلم ص ٢١ (رقم ١) دليل التقويم ص ١٧ (رقم ٢) دليل الأنشطة ص ١٠ (رقم ١٣)	الأول	يحل معادلة من خطوة واحدة	دون المتوسط
		كتاب الطالبة ص ١٠٣ (رقم ٤) دليل المعلم ص ٨٨ (رقم ١٥) دليل التقويم ص ٦٣ (رقم ٩) دليل الأنشطة ص ١٤ (رقم ٤)	الأول	يوجد معادلة المستقيم	فوق المتوسط
		كتاب الطالبة ص ٦٠ (رقم ٨) دليل المعلم ص ٥٥ (رقم ٢٧) دليل التقويم ص ١٩ (رقم ١٠) دليل الأنشطة ص ١٤ (رقم ٣)	الأول	يبسط العبارات الرياضية ويوجد قيمها	
		كتاب الطالبة ص ٤١ (رقم ٤) دليل المعلم ص ٣٨ (رقم ٢٧) دليل التقويم ص ٢٥ (رقم ٩) دليل الأنشطة ص ٢٣ (رقم ٩)	الأول	يحل معادلات تتضمن القيمة المطلقة	
		كتاب الطالبة ص ٦٨ (رقم ١٧) دليل المعلم ص (رقم) دليل التقويم ص ٣٢ (رقم ٩) دليل الأنشطة ص ٦ (رقم ٦)	الأول	يمثل المعادلة الخطية باستخدام المقطع السيني والصادي	فوق المتوسط
		كتاب الطالبة ص ١١٥ (رقم ٥) دليل المعلم ص ١٠٥ (رقم ٢٣) دليل التقويم ص ٥٩ (رقم ١٠) دليل الأنشطة ص ١٩ (رقم ٣)	الأول	يحدد ما اذا كان المستقيمان متوازيان أو متعامدان بمعلومية معادلة أو ميل	

المهمة الأدائية الداعمة	التطبيق الإلكتروني	اجراءات الاتقان	الفصل الدراسي	الوصف	المستوى
		كتاب الطالبة ص ٧٤ (رقم ٨) دليل المعلم ص ٦١ (رقم ٢٢) دليل التقويم ص ٣٥ (رقم ١٥) دليل الأنشطة ص ١٥ (رقم ١)	الأول	يحل المعادلات الخطية	متقدم
		كتاب الطالبة ص ٢٩ (رقم ٧) دليل المعلم ص ١٥٩ (رقم ١٧) دليل التقويم ص ٩٥ (رقم ٧) دليل الأنشطة ص ١٤ (رقم ٧)	الأول	يحل نظام المعادلات الخطية	