



موقع اجاباتكم

Google

للمزيد اكتب
في جوجل



🔍 موقع اجاباتكم

**موقع اجاباتكم التعليمي يوفر كل ما يحتاجه الطالب
والمعلم من حلول الكتب توزيع المنهج. اختبارات
نهائية وفترية ملخصات. أوراق عمل والكثير**

(اختبار تشخيصي)

المادة : علوم .

الصف : الأول الابتدائي .

الفصل الدراسي الثاني .

الاسم :

السؤال الأول:

اختر الإجابة الصحيحة لكل فقرة من الفقرات التالية:

١	الحمار الوحشي حيوان يأكل العشب، ما هو موطنه المناسب؟			
	المنطقة العشبية	الغابة الكثيفة	الصحراء الحارة	الجبل الجليدي
٢	من المخلوقات الحية :			
	السيارة	القلم	القطعة	الكرسي
٣	ما هو الجزء الذي يثبت النبات في التربة؟			
	الجذور	الساق	الأوراق	الأزهار
٤	أي من هذه المواطن يوجد به أشجار كثيرة وطويلة تعيش عليها القروء؟			
	الصحراء	الغابة	الشاطئ	المنطقة العشبية
٥	أي جزء يساعد السمكة على التنفس تحت الماء؟			
	الرئتان	الأرجل	الخياشيم	الزعانف

السؤال الثاني :

حدد كلمة صح أو خطأ لكل فقرة من الفقرات الآتية:

١	الغابة مكان مناسب لعيش نثار الخشب لأنه يبني بيته في جذوع الأشجار.	صح <input type="radio"/>	خطأ <input type="radio"/>
٢	يعتبر الأسد من أكلات اللحوم .	صح <input type="radio"/>	خطأ <input type="radio"/>
٣	نبات الصبار يستطيع العيش في الغابة بسهولة	صح <input type="radio"/>	خطأ <input type="radio"/>
٤	المحيط أصغر من البحيرة	صح <input type="radio"/>	خطأ <input type="radio"/>
٥	من استعمالات الماء الشرب والسباحة والوضوء .	صح <input type="radio"/>	خطأ <input type="radio"/>

اسم الطالبة/.....

الصف/الأول الابتدائي

المادة/ العلوم



المملكة العربية السعودية

وزارة التعليم

الإدارة العامة للتعليم بمنطقة

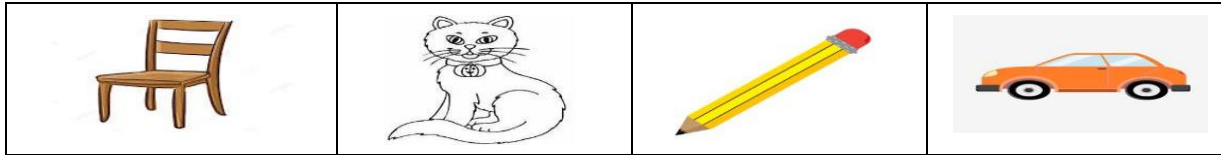
اختبار تشخيصي لمادة العلوم الصف الأول لعام ١٤٤٥ هـ

(درجتان لكل فقرة)

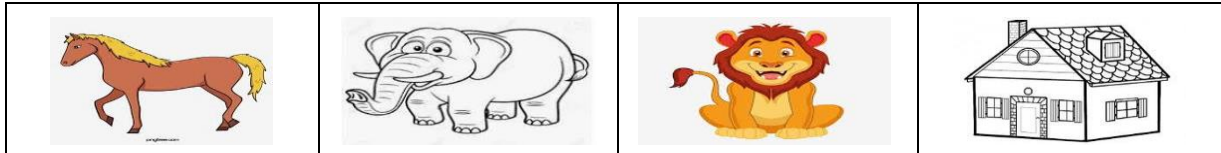
١٠ درجات

* / نحيط الأجابة الصحيحة :

١ / من المخلوقات الحية :




٢ / من الأشياء غير الحية :



٣ / جزء من النبات ينبت ثم ينمو ليصير نبات جديد هو :



٣ / موطن تنمو فيه أشجار كثيرة وطويلة هي :



٥ / موطن من مواطن المياه العذبة تحيط بها اليابسة :



السؤال الثالث

2

صل بين الصورة والكلمة المناسبة

(أ) الصحراء




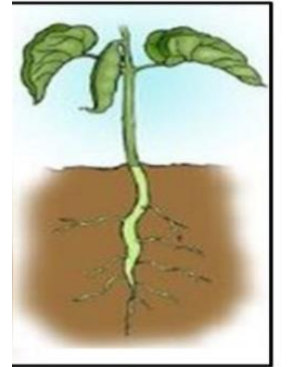
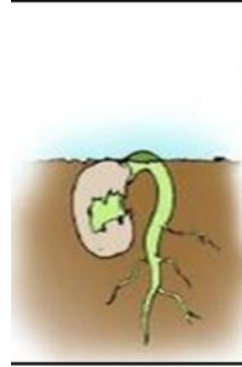

(ب) الغابة



السؤال الرابع: رتب مراحل حياة الفاصوليا بوضع الرقم المناسب تحت الصورة

2


(1) بذرة (2) بذرة لها جذور (3) بادره (4) نبات مكتمل النمو



المستوى	المستوى فوق المتوسط	المستوى المتوسط	المستوى دون المتوسط
الدرجة	8-10	5-7	1-4
تصنيف الطالبة			



اختر الإجابة الصحيحة بوضع دائرة حول الحرف الدال على الإجابة:

1.			
	جميع الصور أعلاه هي :		
(أ)	مخلوقات حية	(ب)	أشياء خيرية
(ج)	نباتات	(د)	حيوانات

2.	هل الحجر مخلوق حي ؟		
(أ)	نعم يحتاج إلى الغذاء والهواء	(ب)	لا . لأنه لا ينمو

3	مراحل نمو المخلوق الحي وعيشه وموته تسمى ...		
(أ)	دورة الحياة	(ب)	النبات الأم
(ج)	الغابة المطيرة	(د)	النبات الأب

4	كيف تبدو الغابة ؟		
(أ)	رطبة	(ب)	جافة وحارة
(ج)	باردة وفارغة	(د)	جافة وباردة

5	فيم تختلف البحيرة عن البحر أو المحيط ؟		
(أ)	البحيرة فيها نباتات .	(ب)	البحيرة فيها أسماك .
(ج)	البحيرة مياهها عذبة .	(د)	البحيرة مياهها مالحة .

6	الأشياء التي نحصل عليها من الأرض ونستخدمها تسمى :		
(أ)	أشياء جديدة .	(ب)	أشياء في الأرض .
(ج)	موارد طبيعية .	(د)	تلوث

7	أي الموارد الطبيعية التالية مصدره حيواني ؟		
(أ)	طين	(ب)	خشب
(ج)	بلاستيك	(د)	صوف

8	ما الأداة التي تستخدم لمعرفة درجة الحرارة ؟		
(أ)	مقياس المطر.	(ب)	مقياس الحرارة.
(ج)	الظل.	(د)	الضغط

9	ماذا يحصل للبذرة اذا زرعت وسقيت وتعرضت للضوء؟		
(أ)	تنمو إلى بادرة.	(ب)	تبقى داخل الثمرة.
(ج)	تموت.	(د)	لا تنمو.



10	إلى أي حالة من حالات المادة يصنف الهواء ؟		
(أ)	السائلة .	(ب)	الغازية.
(ج)	الصلبة.	(د)	البلازما.

انتهت الاسئلة



اختبار تشخيصي مادة العلوم للصف الأول نموذج (١)

الاسم/

<table border="1"> <tr> <td>اجتاز</td> <td><input type="radio"/></td> </tr> <tr> <td>لم يجتاز</td> <td><input type="radio"/></td> </tr> </table>	اجتاز	<input type="radio"/>	لم يجتاز	<input type="radio"/>	<p>س١/ صنف الصور التالية إلى مخلوقات حية وأشياء غير حية: (بالتوصيل)</p> <div style="display: flex; justify-content: space-around;"> <div style="border: 1px solid black; padding: 5px; text-align: center;"> <p>أشياء غير حية</p>  </div> <div style="border: 1px solid black; padding: 5px; text-align: center;"> <p>مخلوقات حية</p>    </div> </div>	<p>المقارنة بين المخلوقات الحية والأشياء غير الحية وتصنيفها</p>
اجتاز	<input type="radio"/>					
لم يجتاز	<input type="radio"/>					
<table border="1"> <tr> <td>اجتاز</td> <td><input type="radio"/></td> </tr> <tr> <td>لم يجتاز</td> <td><input type="radio"/></td> </tr> </table>	اجتاز	<input type="radio"/>	لم يجتاز	<input type="radio"/>	<p>س٢/ رتب مراحل حياة نبات الفاصوليا بوضع الرقم المناسب (١ - ٢ - ٣ - ٤)</p> <div style="display: flex; justify-content: space-around;">     </div>	<p>وصف دورة حياة نبات.</p>
اجتاز	<input type="radio"/>					
لم يجتاز	<input type="radio"/>					
<table border="1"> <tr> <td>اجتاز</td> <td><input type="radio"/></td> </tr> <tr> <td>لم يجتاز</td> <td><input type="radio"/></td> </tr> </table>	اجتاز	<input type="radio"/>	لم يجتاز	<input type="radio"/>	<p>س٣/ ضع علامة (✓) تحت الموطن الذي تنمو فيه أشجار كثيرة وطويلة :</p> <div style="display: flex; justify-content: space-around;">    </div> <div style="display: flex; justify-content: space-around; margin-top: 20px;"> <input type="text"/> <input type="text"/> <input type="text"/> </div>	<p>وصف موطن اليابسة.</p>
اجتاز	<input type="radio"/>					
لم يجتاز	<input type="radio"/>					

<table><tr><td>اجتاز</td><td><input type="radio"/></td></tr><tr><td>لم يجتاز</td><td><input type="radio"/></td></tr></table>	اجتاز	<input type="radio"/>	لم يجتاز	<input type="radio"/>	<p>س٤/ ضع دائرة حول الإجابة الصحيحة: أيّ الحيوانات التالية يعيش في البحيرة:</p> <table><tr><td></td><td>ج</td><td></td><td>ب</td><td></td><td>أ</td></tr></table>		ج		ب		أ	وصف مواطن الماء
اجتاز	<input type="radio"/>											
لم يجتاز	<input type="radio"/>											
	ج		ب		أ							
<table><tr><td>اجتاز</td><td><input type="radio"/></td></tr><tr><td>لم يجتاز</td><td><input type="radio"/></td></tr></table>	اجتاز	<input type="radio"/>	لم يجتاز	<input type="radio"/>	<p>س٥/ <u>اختر الإجابة الصحيحة:</u> من الموارد الطبيعية غير الحية: (الماء - الجمل - الخروف)</p>	التعرف على الموارد الطبيعية ووصفها						
اجتاز	<input type="radio"/>											
لم يجتاز	<input type="radio"/>											
<table><tr><td>اجتاز</td><td><input type="radio"/></td></tr><tr><td>لم يجتاز</td><td><input type="radio"/></td></tr></table>	اجتاز	<input type="radio"/>	لم يجتاز	<input type="radio"/>	<p>س٦/ أيّ الصور التالية تدل على فصل الشتاء:</p> <table><tr><td></td><td></td><td></td></tr><tr><td><input type="radio"/></td><td><input type="radio"/></td><td><input type="radio"/></td></tr></table>				<input type="radio"/>	<input type="radio"/>	<input type="radio"/>	مع تغير الطقس وصف كيفية تغير الفصول
اجتاز	<input type="radio"/>											
لم يجتاز	<input type="radio"/>											
												
<input type="radio"/>	<input type="radio"/>	<input type="radio"/>										
<table><tr><td>اجتاز</td><td><input type="radio"/></td></tr><tr><td>لم يجتاز</td><td><input type="radio"/></td></tr></table>	اجتاز	<input type="radio"/>	لم يجتاز	<input type="radio"/>	<p>س٧/ <u>أعط الإجابة الصحيحة:</u> المادة التي تأخذ شكل الوعاء الذي توضع فيه هي: (الصلبة - السائلة - الغازية)</p>	تحديد بعض خصائص المادة.						
اجتاز	<input type="radio"/>											
لم يجتاز	<input type="radio"/>											

مدير/ة المدرسة:












اسم المعلم/ة:

المشرف/ة التربوي/ة:

*يرجى الاحتفاظ بالشواهد في ملف خاص بالمعلم/ة

اختبار تشخيصي مادة العلوم للصف الأول نموذج (٢)

الاسم/

<table><tr><td>اجتاز</td><td><input type="radio"/></td></tr><tr><td>لم يجتاز</td><td><input type="radio"/></td></tr></table>	اجتاز	<input type="radio"/>	لم يجتاز	<input type="radio"/>	<p>س١/ اختر الإجابة الصحيحة: أي مما يلي يحتاج إلى الغذاء والماء والهواء:</p> <div><div> <input type="checkbox"/></div><div> <input type="checkbox"/></div><div> <input type="checkbox"/></div></div>	المقارنة بين المخلوقات الحية الاشياء غير الحية وتصنيفها
اجتاز	<input type="radio"/>					
لم يجتاز	<input type="radio"/>					
<table><tr><td>اجتاز</td><td><input type="radio"/></td></tr><tr><td>لم يجتاز</td><td><input type="radio"/></td></tr></table>	اجتاز	<input type="radio"/>	لم يجتاز	<input type="radio"/>	<p>س٢/ أيّ الصور التالية تمثل بذرة:</p> <div><div> <input type="checkbox"/></div><div> <input type="checkbox"/></div><div> <input type="checkbox"/></div></div>	وصف دورة حياة نبات.
اجتاز	<input type="radio"/>					
لم يجتاز	<input type="radio"/>					
<table><tr><td>اجتاز</td><td><input type="radio"/></td></tr><tr><td>لم يجتاز</td><td><input type="radio"/></td></tr></table>	اجتاز	<input type="radio"/>	لم يجتاز	<input type="radio"/>	<p>س٣/ صل الحيوان بمكان عيشه :</p> <div><div> </div><div> </div></div>	وصف مواطن اليابسة.
اجتاز	<input type="radio"/>					
لم يجتاز	<input type="radio"/>					
<table><tr><td>اجتاز</td><td><input type="radio"/></td></tr><tr><td>لم يجتاز</td><td><input type="radio"/></td></tr></table>	اجتاز	<input type="radio"/>	لم يجتاز	<input type="radio"/>	<p>س٤/ ضع دائرة حول الإجابة الصحيحة:</p> <div><div>من مواطن المياه المالحة . (المحيط - البحيرة)</div><div></div></div>	وصف مواطن الماء
اجتاز	<input type="radio"/>					
لم يجتاز	<input type="radio"/>					

س ٥ / صل الصورة بما يناسبها:

التعرف على الموارد الطبيعية ووصفها



اجتاز	<input type="radio"/>
لم يجتاز	<input type="radio"/>

س ٦ / أكتب الكلمة المناسبة في الفراغ :

وصف كيفية تغير الفصول مع تغير الطقس



(الصيف - الخريف - الشتاء)

١ - أشد الفصول برودة فصل

اجتاز	<input type="radio"/>
لم يجتاز	<input type="radio"/>

س ٧ / أكتب رقم كل عبارة في العمود (أ) أمام ما يناسبها في العمود (ب):

تحديد بعض خصائص المادة.

(أ)	(ب)
(١) مادة صلبة شكلها ثابت.	 <input type="checkbox"/>
(٢) سوائل تنساب بسرعة.	 <input type="checkbox"/>

اجتاز	<input type="radio"/>
لم يجتاز	<input type="radio"/>

مديرة المدرسة:

اسم المعلمة:

المشرفة التربوية:











*يرجى الاحتفاظ بالشواهد في ملف خاص بالمعلمة




للمزيد من الاختبارات اضغط هنا



اختبار تشخيصي مادة العلوم للصف الأول نموذج (٣)

الاسم/

<table><tr><td>اجتاز</td><td><input type="radio"/></td></tr><tr><td>لم يجتاز</td><td><input type="radio"/></td></tr></table>	اجتاز	<input type="radio"/>	لم يجتاز	<input type="radio"/>	<p>س١/ اختر الإجابة الصحيحة: أي مما يلي مخلوق حي:</p> <div><div> <input type="radio"/></div><div> <input type="radio"/></div><div> <input type="radio"/></div></div>	المقارنة بين المخلوقات الحية الأشياء غير الحية وتصنيفها
اجتاز	<input type="radio"/>					
لم يجتاز	<input type="radio"/>					
<table><tr><td>اجتاز</td><td><input type="radio"/></td></tr><tr><td>لم يجتاز</td><td><input type="radio"/></td></tr></table>	اجتاز	<input type="radio"/>	لم يجتاز	<input type="radio"/>	<p>س٢/ حدد جزء النبات الذي ينبت ثم ينمو ويصبح نباتا جديدا:</p> <div></div>	وصف دورة حياة نبات.
اجتاز	<input type="radio"/>					
لم يجتاز	<input type="radio"/>					
<table><tr><td>اجتاز</td><td><input type="radio"/></td></tr><tr><td>لم يجتاز</td><td><input type="radio"/></td></tr></table>	اجتاز	<input type="radio"/>	لم يجتاز	<input type="radio"/>	<p>س٣/ ضع علامة (✓) تحت الموطن الذي يتميز بكثرة أعشابه :</p> <div></div> <div><input type="radio"/><input type="radio"/><input type="radio"/></div>	وصف مواطن اليابسة.
اجتاز	<input type="radio"/>					
لم يجتاز	<input type="radio"/>					
<table><tr><td>اجتاز</td><td><input type="radio"/></td></tr><tr><td>لم يجتاز</td><td><input type="radio"/></td></tr></table>	اجتاز	<input type="radio"/>	لم يجتاز	<input type="radio"/>	<p>س٤/ ضع دائرة حول الإجابة الصحيحة:</p> <p>من مواطن المياه العذبة . (المحيط - البحيرة)</p> <div></div>	وصف مواطن الماء
اجتاز	<input type="radio"/>					
لم يجتاز	<input type="radio"/>					

<div>التعرف على الموارد الطبيعية ووصفها</div> <div>س٥/ اختر الإجابة الصحيحة: من الموارد الطبيعية الحية:</div> <div>(القلم - الحيوانات - الكتاب)</div>	<div><div><div>○</div><div>اجتاز</div></div><div><div>○</div><div>لم يجتاز</div></div></div>
<div>وصف كيفية تغير الفصول مع تغير الطقس</div> <div>س٦/ أكتب الكلمة المناسبة في الفراغ: (الخريف - الشتاء) ١ - يصبح الطقس معتدلاً وتتساقط أوراق بعض النباتات في فصل</div>	<div><div><div>○</div><div>اجتاز</div></div><div><div>○</div><div>لم يجتاز</div></div></div>
<div>تحديد بعض خصائص المادة.</div> <div>س٧/ صل العبارة في العمود (أ) بما يناسبها في العمود(ب):</div> <div><div><div>(أ)</div><div>مادة صلبة شكلها ثابت.</div></div><div><div><div></div><div></div><div></div></div></div></div>	<div><div><div>○</div><div>اجتاز</div></div><div><div>○</div><div>لم يجتاز</div></div></div>

مديرة المدرسة:

اسم المعلمة:

المشرفة التربوية:

*يرجى الاحتفاظ بالشواهد في ملف خاص بالمعلمة

