


المملكة العربية السعودية

وزارة التعليم

الإدارة العامة للتعليم بمنطقة .....

VISION 2030  
رؤية 2030



وزارة التعليم  
Ministry of Education

# ملزمة وأوراق عمل مادة العلوم

## الصف الأول الابتدائي


### الفصل الدراسي الأول لعام ١٤٤٥ هـ

الاسم : .....

الفصل : .....


# العلوم





# الفصل الأول






## الدرس الأول: المخلوقات الحية

يقوم الطالب بالمقارنة بين المخلوقات الحية والأشياء  
غير الحية ويصنفها..

-أحوظ المخلوقات الحية باللون الأزرق و الاشياء الغير  
حية باللون الأحمر:








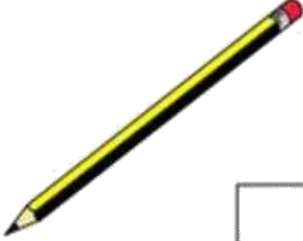











## تعرف إلى الكائنات الحية

### اختر الكائن الحي.

 <input type="checkbox"/>	 <input type="checkbox"/>	 <input type="checkbox"/>
 <input type="checkbox"/>	 <input type="checkbox"/>	 <input type="checkbox"/>
 <input type="checkbox"/>	 <input type="checkbox"/>	 <input type="checkbox"/>
 <input type="checkbox"/>	 <input type="checkbox"/>	 <input type="checkbox"/>



## الدرس الأول : المخلوقات الحية ٢

اختر الجواب الصحيح:

(١) كل مما يلي عبارة عن مخلوق حي إلا:



(٢) أي مما يلي مخلوق حي:



صل كل صورة بما يُناسبها:




كانن حي



شيء غير حي






## الدرس الثاني: النباتات وأجزاؤها


يقوم الطالب بالتعرف على أجزاء النبات (الجنور والسيقان  
وصف وظائف أجزاء النبات.

اصل المفردات في مكانها الصحيح :

الأزهار	الساق	الأوراق	الجنور
---------	-------	---------	--------







صل كل صورة بما يُناسيها:



جُدُور



أوراق




ساق





# الفصل الثاني





## الدرس الثالث: نمو النباتات

يوضح أهمية الثمار والأزهار للنباتات



صل بين الصورة والكلمة المناسبة لها:



الثمرة

البادرة

البذور

الزهرة

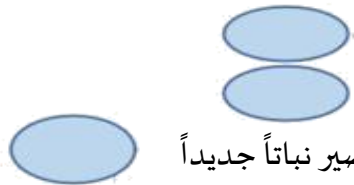


ضع علامة (صح) أمام العبارة:

١. جزء النبات الذي يحمي البذور

٢. تنبت البذرة ثم تنمو وتكون

٣. جزء النبات الذي ينبت، ثم ينمو ليصير نباتاً جديداً





صل كل مرحلة من مراحل حياة نبات الفاصولياء بالرقم المناسب:




5

4

3

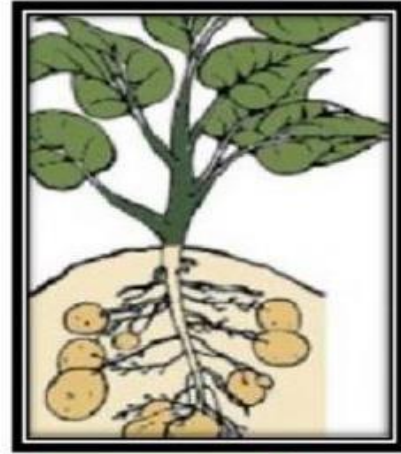


2

1






## هيا يا صغيري رتب مراحل نمو النبات







## الدرس الرابع: تعيش النباتات في أماكن كثيرة

يقوم بوصف كيف يُمكن للنبات أن يعيش في أماكن كثيرة

يقوم بوصف بيئة الغابة ، وبيئة الصحراء أيضاً

### اختار الإجابة الصحيحة:

١. موطن تنمو في أشجار كثيرة وطويلة (الغابة - الصحراء - البحيرة)
٢. موطن تعيش فيه الجمال (الغابة - الصحراء - البحيرة)
٣. منطقة واسعة فيها أعشاب كثيرة (الغابة - الصحراء - البحيرة)

صل بين الصورة والكلمة المناسبة لها:

المنطقة العشبية

الغابة


البحيرة

الصحراء





# الفصل الثالث



## الدرس الخامس: أنواع الحيوانات

يرى أنواع متعددة من الحيوانات ويقوم بوصفها  
يشرح أوجه التشابه والاختلاف بين الحيوانات

صل بين الصورة والكلمة المناسبة:



زاحف

ثدي

حشرة

طائر

برماني

اختر الجواب الصحيح:

١. حيوانات لها زعانف تعيش في الماء. (الثدييات - الطيور - الأسماك)

٢. العناكب من الحشرات (صح - خطأ).

٣. بعض الزواحف يغطي جسمها درع تحميها (صح - خطأ).







السؤال الأول ضع علامة ( √ ) أو ( X ) أما العبارات التالية

تحتاج الطيور إلي الخياشيم لتأكل



البرمائيات لها جلد ناعم ورطب



يغطي أجسام بعض الثدييات شعر



السؤال الثاني : ضع دائرة حول الحيوان الذي يغطي جسمه ريش





## الدرس السادس: الحيوانات وحاجاتها

يستطيع الربط بين شكل أسنان الحيوان والطعام المناسب لتناوله

يستطيع تصنيف الحيوانات بناء على نوع طعامها

صل كل حيوان مع نمط غذائه:



آكلات اللحوم



آكلات الأعشاب



اختر الجواب الصحيح:



١. عثر أحمد على جمجمة حيوان في البرية:  
تعود هذه الجمجمة لحيوان: (آكلات الأعشاب - آكلات اللحوم)





صل الحيوان مع الأسنان المناسبة له:




آكلات نبات



آكلات لحوم







## الدرس السادس: الحيوانات وحاجاتها (٢)

يشرح كيفية حصول الحيوانات المختلفة على حاجاتها



صل كل حيوان بطريقة تنقله:



السباحة



الركض



الزحف



الطيران



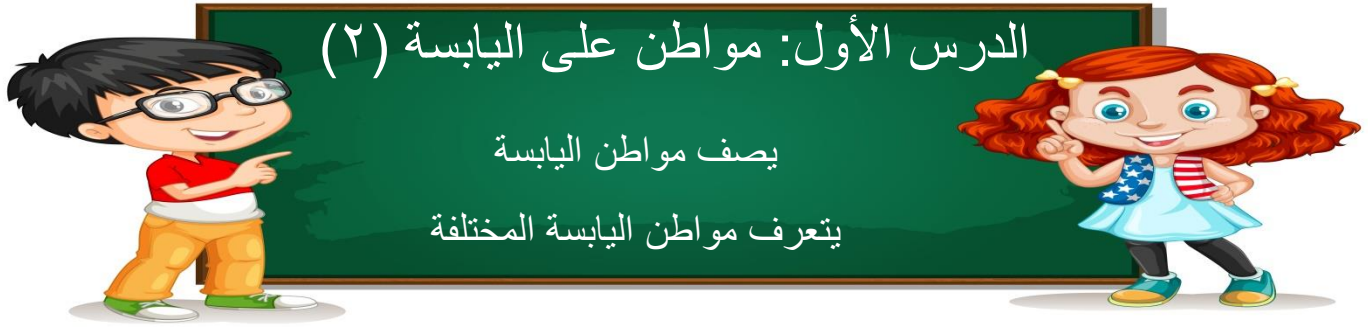

صل كل حيوان بـغذائـه المناسب :





# الفصل الرابع





## الدرس الأول: مواطن على اليابسة (٢)

يصف مواطن اليابسة  
يتعرف مواطن اليابسة المختلفة

صل كل حيوان بالمنطقة التي يعيش فيها:

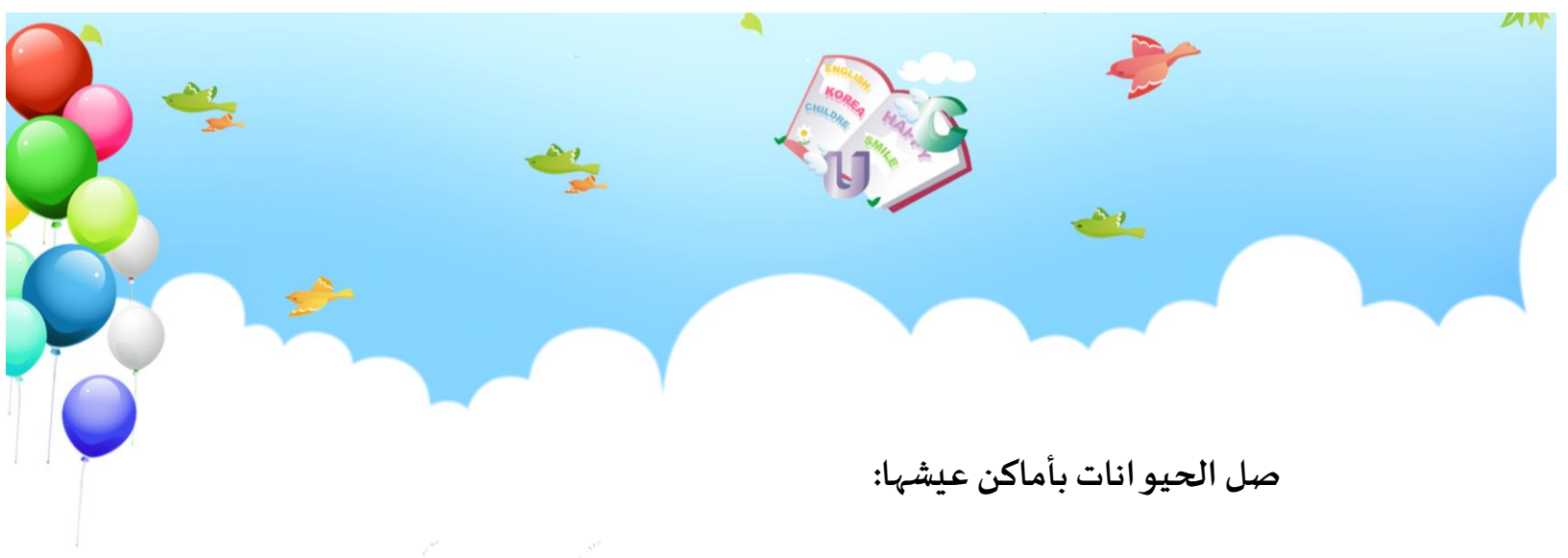


الصحراء



المنطقة العشبية





صل الحيوانات بأماكن عيشها:

