

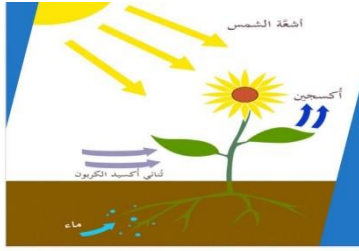
ورقة عمل لمهارات مادة العلوم (١) للصف الثاني الابتدائي للفصل الأول لعام ١٤٤٣-١٤٤٤ هـ

الصف: ٢ /

اسم الطالبة:

مستوى أداء الطالبة في المعيار				المعيار	رقم المعيار
غير مجتاز أقل من ٨٠%	متمكن من ٨٠%	متقدم من ٩٠%	متفوق ١٠٠%	تفسير اعتبار النباتات مخلوقات حية	٢

(أ) ضعي علامة (√) أمام العبارات الصحيحة وعلامة (X) أمام العبارات الخاطئة :



(١) تعتبر النباتات مخلوقات حية لأنها تنمو وتتنفس وتتكاثر. (√)

(٢) غاز تطلقه النباتات عندما تصنع الغذاء الأكسجين. (√)

(٣) أجزاء صلبة غير حية من التربة هي حبوب اللقاح. (X)

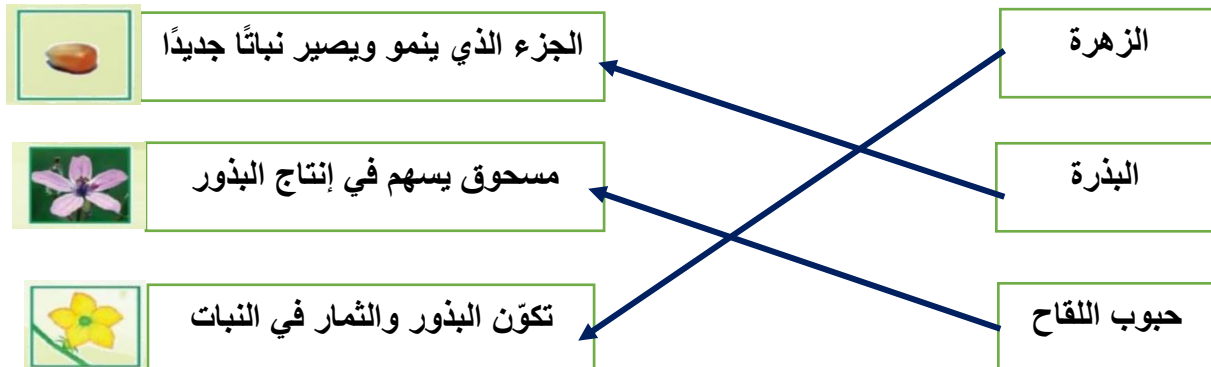
مستوى أداء الطالبة في المعيار				المعيار	رقم المعيار
غير مجتاز أقل من ٨٠%	متمكن من ٨٠%	متقدم من ٩٠%	متفوق ١٠٠%	تعداد حاجات النبات	٣ *

(ب) لَوّني في الرسم أمامك ما تحتاجه المخلوقات الحية:



مستوى أداء الطالبة في المعيار				المعيار	رقم المعيار
غير مجتاز أقل من ٨٠%	متمكن من ٨٠%	متقدم من ٩٠%	متفوق ١٠٠%	وصف مبسط للذرة مع بيان مصدرها	٤

(ج) صلي المفردة العلمية بالعبارات المناسبة لها:



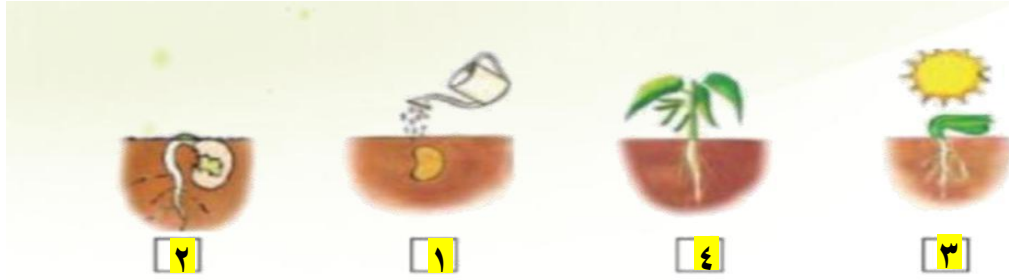
ورقة عمل لمهارات مادة العلوم (١) للصف الثاني الابتدائي للفصل الأول لعام ١٤٤٣-١٤٤٤ هـ

الصف: ٢ /

اسم الطالبة:

مستوى أداء الطالبة في المعيار				المعيار	رقم المعيار
متفوق	متقدم من ٩٠٪	متمكن من ٨٠٪	غير مجتاز		
١٠٠٪	إلى أقل من ١٠٠٪	إلى أقل من ٩٠٪	أقل من ٨٠٪	ترتيب مجموعة صور لمراحل دورة حياة نبات ما	* ٥

(د) رتب الصور التالية التي تظهر دورة حياة نمو نبات الفاصولياء مستخدمة الأرقام من ١ - ٤



تمنياتي لكم بالتوفيق والنجاح

معلمة المادة / نجلاء الزهراني