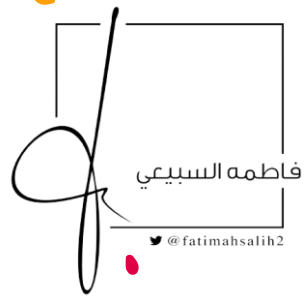


لعبة البطاقات الملونة



اختبار الفصل التاسع


الصف الأول متوسط

مادة الرياضيات





حدد شكل قاعدة كلٍّ ممَّا يأتي، ثم صنّفه:



١٣ هندسة: ما الشكل الهندسي الذي له على الأقل
ثلاثة أوجه جانبية ، كلٌّ منها على شكل مثلث، وله
قاعدة واحدة؟




اختيار من متعدد: نافورة دائرية قطرها ٨ م.

أيُّ العبارات التالية تمثل مساحة النافورة؟


(أ) $م = ط \times ٨, ٨^٢$ (ب) $م = ط \times ٤, ٤^٢$

(ج) $م = ٢ \times ط \times ٤, ٤$ (د) $م = ط \times ٨, ٨$

احسب مساحة كلٍّ من الدائرتين الآتيتين، وقرب الناتج
إلى أقرب عُشرٍ:
٦ نصف القطر = ٩ سم



حدد شكل قاعدة كلِّ ممَّا يأتي، ثم صنِّفه:





١٢ **هندسة:** ما الشكل

الذي تمثله لفافة
المناديل الورقية؟



٢٠ اختيار من متعدد: كوب أسطواناني الشكل،


نصف قطره ٤ سم، وارتفاعه ١٠ سم. ما كمية الماء التي يستوعبها نصف الكوب؟

(ج) ٦، ٢، ٥ سم^٣


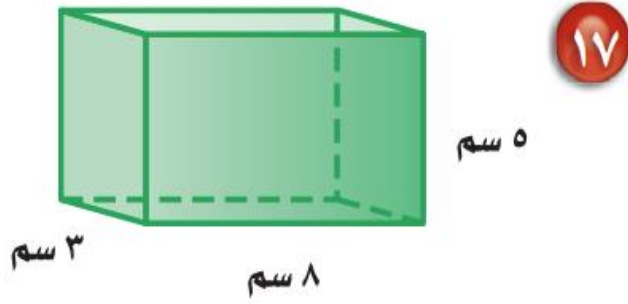
(أ) ٣، ١، ٢ سم^٣

(ب) ٦، ٢، ١ سم^٣

(د) ٦، ١، ٥ سم^٣



احسب حجم كلٍّ من الأشكال الآتية، وقرب الناتج إلى أقرب عُشرٍ:



فخورة بكم طالباتي الجميلات

